

現代社会

(解答番号 ~)

第1問 高校生のサエキさんとシミズさんは、大学の公開授業に参加した。授業のテーマは「武力紛争から読み解く冷戦後の国際政治」だった。このテーマに関して、次の問い(問1～6)に答えよ。(配点 21)

問1 授業が終わった後、サエキさんとシミズさんは大学のカフェテリアで復習をすることにした。授業の配布プリントには、アメリカの主導で始まった二つの武力紛争のポイントがまとめられていた。次の配布プリントの には後の語句A・Bのいずれかが、 には後の語句P・Qのいずれかが入る。その組合せとして最も適当なものを、後の①～④のうちから一つ選べ。

配布プリント

事 例	始まった年	主なきっかけ
<input type="text" value="ア"/> におけるタリバン に対する攻撃	2001年	アメリカにおける同時多発 テロ
イラク戦争	2003年	<input type="text" value="イ"/>

に入る語句

- A アフガニスタン
- B シリア

に入る語句

- P 中東におけるイスラム国(IS)の台頭
- Q イラクにおける大量破壊兵器の保有疑惑

- ① アーA イーP
- ② アーA イーQ
- ③ アーB イーP
- ④ アーB イーQ

問 2 サエキさんは、大学の先生が「武力紛争には政治体制の問題が関係することもある」と話していたのを思い出した。各国の政治体制の特徴に関する記述として最も適当なものを、次の①～④のうちから一つ選べ。

- ① イギリスでは、上院が下院に優越する原則が確立している。
- ② 日本では、国会による憲法改正の発議は、衆議院と参議院それぞれの総議員の過半数の賛成があれば行うことができる。
- ③ アメリカでは、連邦議会は任期中であっても、大統領の決定により解散されることがある。
- ④ 中国では、全国人民代表大会が共産党の指導の下で運営されている。

現代社会

問 3 サエキさんが「武力紛争の理由は様々だけど、なぜ国家はたくさん兵器をもつのかな」と言うと、シミズさんは次の図を描いてその理由を説明してくれた。図から読み取れる内容として正しいものを後のア～ウからすべて選んだとき、その組合せとして最も適当なものを、後の①～⑧のうちから一つ選べ。

3

図

- ・ X 国と Y 国の二国のみを想定する。
- ・ X 国と Y 国は互いに意思疎通ができない状況で、「軍縮」か「軍拡」のいずれかを 1 回のみ同時に選択する。
- ・ 「軍縮」, 「軍拡」の選択の結果として、それぞれの国は表中の該当する点数を得ることができる。
- ・ 点数は、国が得られる利益の大きさを示している。

表

		Y 国	
		軍 縮	軍 拡
X 国	軍 縮	X 国に 10 点 Y 国に 10 点	X 国に 0 点 Y 国に 11 点
	軍 拡	X 国に 11 点 Y 国に 0 点	X 国に 5 点 Y 国に 5 点

- ア X 国にとって、最も大きな利益を得ることができるのは「軍拡」であるが、それには Y 国が「軍拡」を選択しないという条件が必要である。
- イ X 国と Y 国のいずれも、両国がともに「軍拡」を選択する場合の方が、両国がともに「軍縮」を選択する場合よりも大きな利益を得ることができる。
- ウ X 国, Y 国ともに、相手国の選択にかかわらず、「軍縮」よりも「軍拡」を選ぶ方がより大きな利益を得ることができる。

- ① アとイとウ ② アとイ ③ アとウ ④ イとウ
⑤ ア ⑥ イ ⑦ ウ ⑧ 正しいものはない

問 4 軍縮の難しさを理解したサエキさんに、シミズさんは、先ほど図示した例はあくまで「X国とY国は互いに意思疎通ができない状況で、1回のみ同時に選択する」ことが前提になっているのだと強調した。現実の国際社会では、国家は相互にコミュニケーションを取ることを通して軍縮、とりわけ、核兵器の規制に向けた努力を行ってきたという。核兵器使用の禁止・制限の取組みに関する記述として最も適当なものを、次の①～④のうちから一つ選べ。 4

- ① 核兵器の保有や使用などを全面的に禁止するために採択されたのは、「核兵器禁止条約」である。
- ② 特定の地域における核兵器の製造や配備を禁止する条約により、日本を含む東アジア地域全体が非核地帯となっている。
- ③ 「中距離核戦力(INF)全廃条約」は、アメリカと中国の間で核兵器の廃棄が合意された条約である。
- ④ 核物質が平和利用から軍事利用に転換されることを防止するために査察を行うのは、国連軍縮特別総会である。

現代社会

問 5 後日、サエキさんは「武力紛争などで行われた残虐な行為の責任は追及されるのだろうか」と考えた。1週間後に現代社会の授業で研究発表をする課題があったので、そのテーマで調べ、次の発表プリントにまとめた。発表プリント中の **ア** には後の語句 A～C のいずれかが、 **イ** には後の記述 P～R のいずれかが入る。その組合せとして最も適当なものを、後の①～⑨のうちから一つ選べ。 **5**

発表プリント

集団殺害犯罪、人道に対する犯罪、戦争犯罪(以下、これらを併せて対象犯罪という)等を行った個人を、国際法に基づいて訴追・処罰するために、2002年に発効した「ローマ規程」に基づいて、オランダのハーグに **ア** が設置された。

この裁判所が事件を審理する権限(管轄権)を有するためには、原則として関係国の同意が必要となる。国家は「ローマ規程」の締約国になることで裁判所の管轄権に同意を与えたとみなされ、対象犯罪が締約国の領域内で行われた場合や、対象犯罪が締約国の国籍を有する者によって行われた場合には、裁判所は管轄権を有する。

しかし、このような関係国の同意規則に基づくと、 **イ** 場合にも、自国民が裁かれる可能性があることを理由に、非締約国の一部は強く反発している。そのような課題を抱えながらも、「不処罰を許さない」という努力が国際社会で積み重ねられている。

ア に入る語句

- A 国際司法裁判所
- B 常設国際司法裁判所
- C 国際刑事裁判所

イ に入る記述

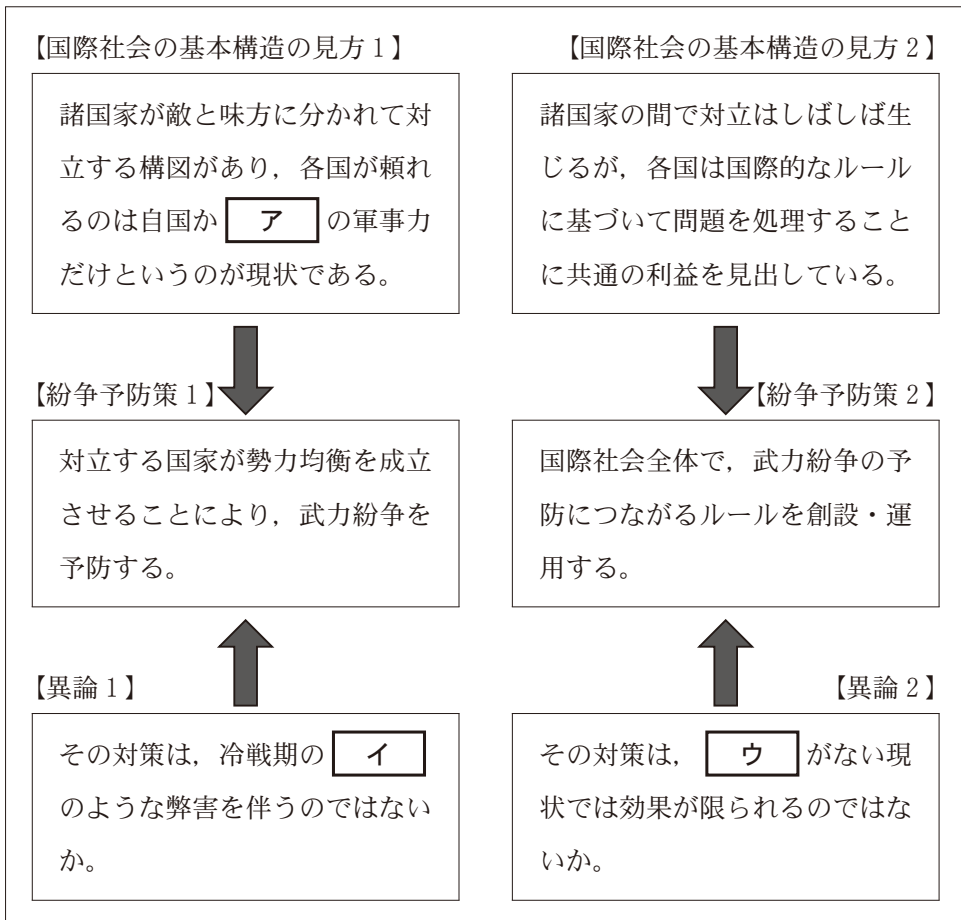
- P 非締約国の国籍を有する者が、締約国(裁判所の管轄権に同意を与えている国)の領域内で対象犯罪を行った
- Q 締約国の国籍を有する者が、締約国(裁判所の管轄権に同意を与えている国)の領域内で対象犯罪を行った
- R 非締約国の国籍を有する者が、非締約国(裁判所の管轄権に同意を与えていない国)の領域内で対象犯罪を行った

- ① アーA イーP
- ② アーA イーQ
- ③ アーA イーR
- ④ アーB イーP
- ⑤ アーB イーQ
- ⑥ アーB イーR
- ⑦ アーC イーP
- ⑧ アーC イーQ
- ⑨ アーC イーR

現代社会

問 6 サエキさんは発表を終えた後、これまで学んだことを基に、国家間の武力紛争をどうすれば予防できるのか、二つの対照的な考え方をノートに書いた。次のノートの **ア** には後の語句 A・B のいずれかが、 **イ** には後の語句 P・Q のいずれかが、 **ウ** には後の語句 X・Y のいずれかが入る。その組合せとして最も適当なものを、後の①～③のうちから一つ選べ。 **6**

ノート



ア に入る語句

A 国連憲章で規定された国連軍

B 同盟国

イ に入る語句

P 北大西洋条約機構(NATO)が介入したボスニア・ヘルツェゴビナ紛争

Q 米ソ間の軍拡競争

ウ に入る語句

X すべての国家を統治する世界政府

Y 軍事的な強制措置の仕組み

- ① アーA イーP ウーX
- ② アーA イーP ウーY
- ③ アーA イーQ ウーX
- ④ アーA イーQ ウーY
- ⑤ アーB イーP ウーX
- ⑥ アーB イーP ウーY
- ⑦ アーB イーQ ウーX
- ⑧ アーB イーQ ウーY

現代社会

第2問 経済学部を志望しているモリさんは、大学生の姉と買物に出かけた。次の問い(問1～5)に答えよ。(配点 17)

問1 モリさんは図書館で姉を待ちながら経済学の本を手にした。そこには、意思決定について「人々があるものを選択したら他のものを選択できないので、どのような行動の費用も失われた機会を踏まえて測られる」と書かれていた。例えば、遊園地で7時間遊んで入園料2,000円を支出した場合も、7時間いつものアルバイトをして日当8,000円を稼ぐことができるのであれば、遊園地で遊んでかかった費用は10,000円となる。

こうした費用の考え方に関する記述として正しいものを次のア～ウからすべて選んだとき、その組合せとして最も適当なものを、後の①～⑧のうちから一つ選べ。

ア ある人の4年間の大学生活でかかる費用は、学費、教科書代などの合計金額と、高校卒業後に就職したときに得られたはずの4年間分の所得を合計したものである。

イ ある工場の経営主が新しい機械を購入するのにかかった費用は、購入代金200万円と、古い機械を廃棄するためかかった費用50万円を合計したものである。

ウ いつものパートタイムの仕事を入れずに、5時間並んでようやく購入した人気のスイーツにかかった費用は、代金の3,000円に、時給1,100円で5時間働けば得られたはずのパートタイムの報酬5,500円を合計したものである。

- | | | | |
|---------|-------|-------|------------|
| ① アとイとウ | ② アとイ | ③ アとウ | ④ イとウ |
| ⑤ ア | ⑥ イ | ⑦ ウ | ⑧ 正しいものはない |

問 2 姉とモリさんは、一緒に買物をしながら会話している。次の会話文において、下線部①・②の姉の問いかけを踏まえ、・に入る発言の組合せとして最も適当なものを、後の①～④のうちから一つ選べ。

モリ：さっき、経済学の入門書で、情報の非対称性が書かれている箇所を読んだけど、そのメカニズムがよく分からなかったので教えてくれない？

姉：そうだね、その説明の仮説的事例として、中古車市場が用いられるね。買手と売手が個人で中古車を取引しているとしようか。①中古車を買おうとしている買手は、試乗しても売手ほどその品質がよく分からないので、質が良いか悪いかの判断はつかないよね。高価格の中古車でも品質の悪い中古車が混じっている可能性もあるので、買手がそのことを考慮して車を選ぶようになると、買手はどんな行動をとるかな？

モリ：買手は損をしたくないから、ようになるのかな？

姉：その通り。②中古車市場がそのような状況になると、今度は売手がそうした買手の行動を前提に自分の中古車を売るための判断をするよね。売手は中古車の品質をよく知っているから、中古車の品質に見合う値段で売りたい。すると、売手はどんな行動をとるかな？

モリ：えっと、ようになるのでは？

姉：そう、正解。現実の中古車市場では、こうしたことが起こらないように、車の性能や品質について信頼できる情報を明らかにしているよ。

- ① A 予算の上限を下げ、高価格の中古車を買わない
B 品質の悪い中古車の持ち主は自分の車を売りに出さなくなる
- ② A 予算の上限を下げ、高価格の中古車を買わない
B 品質の良い中古車の持ち主は自分の車を売りに出さなくなる
- ③ A 予算の上限を上げて、高価格の中古車を買う
B 品質の悪い中古車の持ち主は自分の車を売りに出さなくなる
- ④ A 予算の上限を上げて、高価格の中古車を買う
B 品質の良い中古車の持ち主は自分の車を売りに出さなくなる

現代社会

問 3 買物中、姉はモリさんに「購買行動は、経済学ばかりでなく心理学の視点からも考えることができるよ」と言った。そして帰宅後に、複数のブランドのピーナッツバター(以降はバターと略記)のなかから一つを選ぶ**実験の手順**と表を見せてくれた。次の**実験の手順**と後の**表**の内容から読み取れることの記述として正しいものを、後のア～ウからすべて選んだとき、その組合せとして最も適当なものを、後の①～⑧のうちから一つ選べ。

9

実験の手順

- I. 参加者を A 群と B 群に分け、各群に 3 種類のバターがそれぞれ入った瓶のセットを提示する。A 群には 3 種類の無名なブランドのラベルがついた瓶のセットを、B 群には一つは有名ブランド、二つは無名なブランドのラベルがついた瓶のセットを提示する。
- II. 参加者は、初めてその商品を自分で買うとしたらどれにするか、1 種類の瓶を選び、その理由を答え、選んだバターを味見する。
- III. 味見後、各群の参加者は、先ほどと同じ 3 種類のラベルがついている瓶のセットのなかから 1 種類の瓶を再度選び、理由を答え、味見する。
この「選ぶ→理由を答える→味見する」という作業を全部で 5 回繰り返す。

(注) 参加者は、どのブランドのバターも買ったことはない。各ブランドのラベルがついた瓶は、入っているバターの味とつけられている値札が人によって異なり、全体としてブランドによって値段や美味しさに偏りが生じないように調整されている。

W. D. Hoyer & S. P. Brown, *Journal of Consumer Research*, 1990 により作成。

表 参加者が商品を選んだ理由の割合(%)

	1回目(味見前)の選択		5回目(4回の味見後)の選択	
	A 群	B 群	A 群	B 群
ブランドの知名度の高さ	0	60.0	5.4	17.8
味・食感	4.3	0	62.4	41.1
値段が一番安い	2.2	0	3.2	1.1
原材料	10.8	3.3	0	1.1
パッケージの好み	45.2	4.4	0	3.3
新しいブランドを試す	1.1	0	4.3	7.8
その他	21.4	5.7	11.7	5.7

(注) 表の項目は、参加者が自由に答えた理由を実験者が分類したものである。そのため、例えば、味見前でも味に関する発言があれば「味・食感」に区分されている。また、回答項目の一部を省略しているため、回答割合の合計は100%にならない。

実験の手順と同じ出典により作成。

ア 味見前に選ぶ際に、選択肢に有名ブランドがない場合には、「値段が一番安い」ことを理由に選ぶ人が最も多い。

イ 味見前に選ぶ際に、選択肢に有名ブランドがある場合には、「ブランドの知名度の高さ」を理由に選ぶ人が最も多い。

ウ 味見を重ねると、両群ともに「味・食感」を理由に選ぶ人が増加するが、選択肢に有名ブランドがある場合には、ない場合よりも「ブランドの知名度の高さ」を理由に選ぶ人が多い。

① アとイとウ

③ アとウ

⑤ ア

⑦ ウ

② アとイ

④ イとウ

⑥ イ

⑧ 正しいものはない

現代社会

問 4 モリさんは、他の購買行動についても考えてみた。次の事例ア～ウと、防衛機制や葛藤を説明する後の用語 A～D の組合せとして最も適当なものを、後の①～⑨のうちから一つ選べ。 10

ア 10 巻完結の漫画を全巻もっていたが、そのなかの 1 冊を紛失してしまい、それだけを購入したい。しかし、欲しい 1 冊は 10 巻セットでしか販売されておらず、1 冊のために 10 巻セットを買うという出費はしたくない。

イ 近所にできた洋菓子店のケーキはすぐに売り切れてしまい、いまだに食べることができていないが、食べてみたい。しかし、今日も店の前を通ると売り切れの張り紙があり、思わず「きっと私の口には合わないだろうな」とつぶやいている。

ウ 遠方で行われる大好きなアーティストのライブのチケット抽選に初めて当選したので、購入して参加したい。しかし、ライブと同じ時間に開催される地元の花火大会に、数年ぶりに会う友人と一緒にいきたい気持ちもあり迷っている。

A 「接近—接近」

B 「接近—回避」

C 投 射

D 合理化

① ア—A イ—B ウ—C ② ア—A イ—C ウ—D

③ ア—B イ—C ウ—A ④ ア—B イ—D ウ—A

⑤ ア—B イ—D ウ—C ⑥ ア—C イ—D ウ—A

⑦ ア—D イ—A ウ—B ⑧ ア—D イ—B ウ—A

⑨ ア—D イ—B ウ—C

問 5 モリさんは、「買物などの意思決定は、経済学と心理学の両方から考えることがとても大切なことなんだね」と姉に伝えた。すると姉は、「人間の意思決定を考えるためには、倫理的側面からも考えた方が良い」と言って、思想家の著作カードを渡してくれた。次のア～ウは、ベンサム、ロールズ、J. S. ミルの著作のカードである。J. S. ミルとロールズのカードの組合せとして最も適当なものを、後の①～⑥のうちから一つ選べ。 11

ア

省略

イ

省略

ウ

省略

- | | |
|--------------|--------|
| ① J. S. ミル—ア | ロールズ—イ |
| ② J. S. ミル—ア | ロールズ—ウ |
| ③ J. S. ミル—イ | ロールズ—ア |
| ④ J. S. ミル—イ | ロールズ—ウ |
| ⑤ J. S. ミル—ウ | ロールズ—ア |
| ⑥ J. S. ミル—ウ | ロールズ—イ |

現代社会

第3問 ハラさんは、漁師の家に生まれ、漁村に住む高校生である。次の**場面Ⅰ**～**Ⅲ**を読み、後の問い(問1～8)に答えよ。(配点 26)

場面Ⅰ

ハラさんの住む漁村周辺の海は、今では海水も澄み、海水浴や潮干狩りなどでもできる。しかし、過去には、工場からの排水が原因で深刻な②公害に見舞われ、海域一帯で漁ができなくなるほど③海が汚染されていた時代があったことを、ハラさんは④家族から聞いた。話では、漁師たちが粘り強い運動をしたこともあって、きれいな海を取り戻したとのことだった。

問1 下線部②に関して、ハラさんは、現代社会の授業で公害の定義を記した次の**配布資料**に基づき、公害に該当する例を調べ、それが公害に該当することを説明するように指示された。ハラさんは、以前家族から聞いた、自分の住む漁村の海で起きたことを題材として後の**メモ**を作った。**メモ**中の

Ⅰ

 ～

Ⅲ

 には**配布資料**中のA、C、Dの記号のいずれかが入る。

Ⅰ

 ～

Ⅲ

 に入るものの組合せとして最も適当なものを、後の①～⑥のうちから一つ選べ。

12

配布資料

【環境基本法に基づく公害の定義】

環境保全上の支障のうち、次のA～Dのすべてに当てはまるもの。

- A 事業活動等、人の活動に伴って生ずる。
- B 相当範囲にわたる。
- C 大気汚染、水質汚濁、土壌汚染、騒音、振動、地盤沈下、悪臭による。
- D 人の健康または生活環境(人の生活に密接な関係のある財産や動植物とその生育環境を含む)に係る被害が生ずる。

注意点：公害事件には、農林水産業や財産に係る被害が生じたものもあり、括弧書きで人の生活に密接な関係のある財産や動植物とその生育環境を含めている。

メモ

公害の例として、昔、私の住んでいる漁村の海域一帯の水質が工場からの排水により悪化し、魚が捕れなくなったという事件を取り上げる。漁業に係る被害が生じているので、**I**の要素は満たしている。工場の稼働による汚染なので、**II**も満たしている。また、水質の悪化なので、**III**も満たしている。問題は**B**だが、この海域一帯が汚染されていたのだから、これも満たしていると言える。したがって、公害に該当する。

- ① I — A II — C III — D
- ② I — A II — D III — C
- ③ I — C II — A III — D
- ④ I — C II — D III — A
- ⑤ I — D II — A III — C
- ⑥ I — D II — C III — A

現代社会

問 2 下線部⑬に関連して、ある経済活動が市場を介さずに他の主体へ利益や不利益を与える場合、その利益を外部経済、不利益を外部不経済という。一般的に、税や補助金を利用して外部経済の拡大や外部不経済の縮小を図る。次のA～Cから「外部経済を拡大させる施策」をすべて選んだとき、その組合せとして最も適当なものを、後の①～⑧のうちから一つ選べ。ただし、A～Cについては、書かれている事柄に関連する事象以外については変化がないものとする。

13

- A 漁をする際に漁師が使用する設備のメンテナンスを行う業者に対して補助金を交付する。
- B 排水によって水質汚濁をもたらし、漁獲量の減少をもたらす旧型の設備を使用している企業に課税する。
- C 漁村の景観を良くして観光業の売上げ増加にも寄与する景観ガイドラインに沿った対応をする企業等に補助金を交付する。

- ① AとBとC
- ② AとB
- ③ AとC
- ④ BとC
- ⑤ A
- ⑥ B
- ⑦ C
- ⑧ 「外部経済を拡大させる施策」はない

問 3 下線部㉔に関して、家族についての日本の最高裁判所の判断に関する記述として適当でないものを、次の①～④のうちから一つ選べ。 14

- ① 最高裁判所は、日本人の父と外国人の母との間に出生した子が出生後に認知される場合において、父母の婚姻の有無によって子の国籍の取得条件が変わる国籍法の規定は、憲法に違反するとしている。
- ② 最高裁判所は、女性のみにも再婚を禁止する期間を定める民法の規定について、禁止期間のうち 100 日を超える部分についても、憲法に違反しないとしている。
- ③ 最高裁判所は、夫婦同姓を定める民法の規定について、それが憲法に違反しないとしている。
- ④ 最高裁判所は、嫡出でない子(婚外子)の法定相続分を嫡出子の 2 分の 1 とする民法の規定について、それが憲法に違反するとしている。

現代社会

場面Ⅱ

ハラさんが海岸を歩いていると、きれいなように見えた海岸の所々にごみが打ち上げられていることに気付いた。「㉔ 3R が徹底されればごみで海岸が汚されることもないのに」とハラさんは思った。また、海の中にも異変の兆候があるらしく、漁師の話では、㉕ 地球温暖化が原因なのか、海水温が最近高くなっていて、以前は見られなかった種類の魚が泳いでいるとのことだった。

問 4 下線部㉔に関して、次の a～d から、日本の循環型社会形成推進基本法における基本原則に基づく優先順位の第 1 位と第 2 位に該当する事例を選んだとき、その組合せとして最も適当なものを、後の①～⑨のうちから一つ選べ。

15

- a 牛乳の容器としてガラス瓶を用い、使用後は洗って消毒し、何度も繰り返し使用する。
- b 使用済みのジュースの紙パックを回収し、紙パルプに加工してトイレットペーパー等の原料として利用する。
- c アルミ缶の飲料容器を、従来よりも薄くして軽量化し、廃棄後のごみの量を減らす。
- d 使用済みのプラスチックトレイを回収して焼却し、温水をつくる燃料として利用する。

- ① 第 1 位 — a 第 2 位 — b
- ② 第 1 位 — a 第 2 位 — c
- ③ 第 1 位 — a 第 2 位 — d
- ④ 第 1 位 — b 第 2 位 — a
- ⑤ 第 1 位 — b 第 2 位 — c
- ⑥ 第 1 位 — b 第 2 位 — d
- ⑦ 第 1 位 — c 第 2 位 — a
- ⑧ 第 1 位 — c 第 2 位 — b
- ⑨ 第 1 位 — c 第 2 位 — d

問 5 下線部㉔に関連して、二酸化炭素(CO₂)排出を抑制するため、日本では「地球温暖化対策のための税」が2012年から導入されている。税制に関する記述として最も適当なものを、次の①～④のうちから一つ選べ。 16

- ① 所得税に関して、日本の給与所得者は源泉徴収が行われるため自営業者より所得の捕捉率が高いとされる。
- ② 間接税と比べたとき、直接税の税収額は景気変動の影響を受けにくいとされる。
- ③ 消費税導入以前の日本の税体系が直接税中心であったのは、ドッジ・ラインに従ったためである。
- ④ 税負担に関する水平的公平性とは、所得によって税負担率を変更させることで格差を縮小させることを指す。

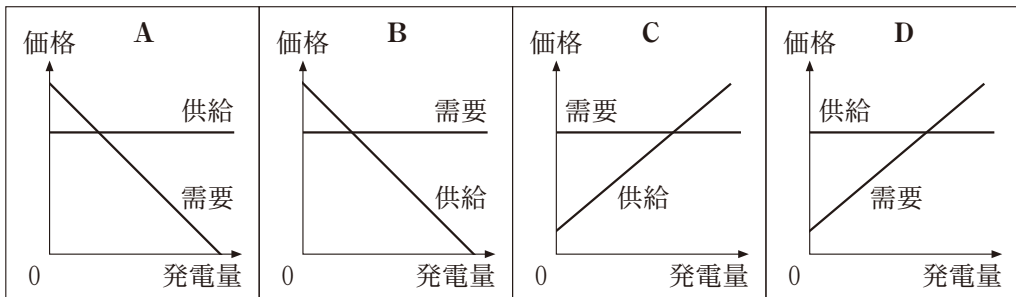
現代社会

問 6 地球温暖化への影響が大きい CO₂ を削減する試みの一つに、再生可能エネルギーの活用がある。再生可能エネルギーによる発電の固定価格買取制度に関する、次の解説文中の **I** ~ **III** に当てはまる語句の組合せとして最も適当なものを、後の①~⑧のうちから一つ選べ。 **17**

解説文

固定価格買取制度とは、一般家庭や企業などが再生可能エネルギーを用いて発電した電力を、地域の電力会社(送電事業者)が一定期間、国が定めた価格(固定価格)で買い取ることを義務づけた制度である。発電された電力について、市場の需要曲線と供給曲線を考えたとき、固定価格で買い取るので **I** は水平になり、全体では図 **II** のようになる。この制度の狙いは、十分高い価格での販売による利益を求めて新規参入した家庭や企業からの電力が増えることによって、**III** にシフトさせることである。

図



- | | | | |
|---|----------|--------|--------------|
| ① | I — 需要曲線 | II — B | III — 供給曲線を左 |
| ② | I — 需要曲線 | II — B | III — 供給曲線を右 |
| ③ | I — 需要曲線 | II — C | III — 供給曲線を左 |
| ④ | I — 需要曲線 | II — C | III — 供給曲線を右 |
| ⑤ | I — 供給曲線 | II — A | III — 需要曲線を左 |
| ⑥ | I — 供給曲線 | II — A | III — 需要曲線を右 |
| ⑦ | I — 供給曲線 | II — D | III — 需要曲線を左 |
| ⑧ | I — 供給曲線 | II — D | III — 需要曲線を右 |

場面Ⅲ

ハラさんは、その後、高校の友人たちと海岸のごみ拾い活動を始め、海岸が大分きれいになった。そうした折、ハラさんは、周辺の海の埋立事業計画が持ち上がっていて、漁師たちが埋立て賛成派と反対派に分かれていること、既に埋立事業は知事による免許が下りていることを家族から聞いた。話では、㊦行政が手続きをきちんと踏んでいない、㊧環境影響評価がずさんであるという理由で、免許は違法だと反対派は考えているらしい。

問 7 下線部㊦に関して、日本における行政活動の統制に関する現行制度の記述として最も適当なものを、次の①～④のうちから一つ選べ。

18

- ① 行政運営における公正の確保と透明性の向上を図ることを目的とする法律として、行政手続法がある。
- ② 行政活動の適法性が争点となる訴訟を審理するために、特別裁判所として行政裁判所が設置されている。
- ③ 行政に対する住民からの苦情処理や、行政の監察などを行うオンブズマン（オンブズパーソン）制度を導入している自治体は存在しない。
- ④ 一定の政策や行政決定に関して住民の意見を明らかにするため、常設型の住民投票の制度を条例で定めている自治体は存在しない。

現代社会

- 問 8 下線部㉔に関して、日本の環境影響評価法の目的には、環境保全について適正な配慮がなされることを確保することも掲げられている。ここで、環境影響評価を次のように定義した場合において、この定義に当てはまる事例を後の a～c からすべて選んだとき、その組合せとして最も適当なものを、後の①～⑧のうちから一つ選べ。 19

【環境影響評価の定義】

事業の実施が環境に与える影響をあらかじめ調査し、当該事業による環境の悪化を事業者自らが防止または緩和すること。

- a 大気環境への影響を調査せずに工場を設置、稼働した後、周辺住民に身体の不調を訴える者が出たことから、工場側が調査したところ、工場からの排気ガスが原因だと判明したため、賠償した。
- b 道路を設置しようとする公共団体が、環境への影響を調査したところ、沿線に生活環境を悪化させる騒音が発生することが予測されたため、被害が発生したときのために、事前に金銭補償を行った。
- c 河川に堰^{せき}を設置しようとする公共団体が、環境への影響を調査したところ、堰の上流と下流が分断され、海から戻ってきたサケが上流に上れなくなることが判明したため、サケが上流に上ることができる魚道を設置した。

- ① a と b と c
② a と b
③ a と c
④ b と c
⑤ a
⑥ b
⑦ c
⑧ 当てはまる事例はない

第4問 次の会話文Ⅰ・Ⅱを読み、後の問い(問1～8)に答えよ。(配点 25)

会話文Ⅰ

クリタ：先生、今度のクラスでの発表ですが、「起業が成功するためには何が重要か？」というテーマでやろうと思います。介護用ロボットの会社を経営している姉に、起業当時の④資金調達のことについて聞く予定です。調べるなかで個人企業と会社の違いに関心をもちました。

先生：起業資金の調達方法から考えると次のような違いになりますね。個人企業の企業財産は通常、**A**によって拠出されます。一方、会社、特に株式会社の場合、⑥株主は**B**となるので、事業に自ら参画するつもりのない人も出資しやすくなります。また、会社は銀行からの借入れにおいても**C**名義で借りることができます。会社の方が他人からお金を集めやすいということは確かです。

クリタ：株式会社は事業に直接参画しない人の出資があらかじめ想定されているんですね。

問1 上の会話文Ⅰ中の**A**～**C**に当てはまる語句の組合せとして最も適当なものを、次の①～⑧のうちから一つ選べ。 **20**

- | | | | |
|---|-------|--------|-------|
| ① | A 従業員 | B 有限責任 | C 出資者 |
| ② | A 従業員 | B 有限責任 | C 法人 |
| ③ | A 従業員 | B 無限責任 | C 出資者 |
| ④ | A 従業員 | B 無限責任 | C 法人 |
| ⑤ | A 事業主 | B 有限責任 | C 出資者 |
| ⑥ | A 事業主 | B 有限責任 | C 法人 |
| ⑦ | A 事業主 | B 無限責任 | C 出資者 |
| ⑧ | A 事業主 | B 無限責任 | C 法人 |

現代社会

- 問 2 下線部②に関して、次の文章はある会社の資金の調達状況を示したものである。後の貸借対照表のルールを参考にして、この会社の本年度末の財務状況を示す、本年度末の貸借対照表の各項目 **A** ~ **C** に入る数字の組合せとして最も適当なものを、後の①~④のうちから一つ選べ。 **21**

昨年度末の時点で、銀行からの借入れが 300 万円、純資産が 200 万円であった。本年度は、新たに株式を発行して 400 万円の増資を行い、製造機械を 300 万円で購入した。さらに、銀行から新たに 200 万円借入れして、150 万円かけて工場内の作業スペースを増やした。最終的には 30 万円利益が出た。

貸借対照表のルール

- 1 貸借対照表は会社がもつ資産の調達に必要な資金をどのように調達しているのかを示す表である。それゆえ、資産の金額は負債と純資産の合計額と常に等しい。
- 2 会社が所有する現金や預金、製造設備などの評価額は資産に計上される。
- 3 会社が借り入れた金額は負債に計上される。
- 4 会社が株式を発行することによって入手した金額は純資産に計上される。
- 5 会社の期末の利益は純資産に計上される。

昨年度末の貸借対照表

資産 500 万円	負債 300 万円
	純資産 200 万円



本年度末の貸借対照表

資産 A 万円	負債 B 万円
	純資産 C 万円

- ① A 1130 B 500 C 630
② A 1280 B 500 C 780
③ A 1280 B 650 C 630
④ A 1430 B 650 C 780

問 3 下線部①に関して、取締役会と監査役を置く株式会社における、株主総会の権能に含まれるものを次のA～Cからすべて選んだとき、その組合せとして最も適当なものを、後の①～⑧のうちから一つ選べ。 22

- A 従業員を雇用する。
B 会社の経営方針を決定する。
C 監査役を選任する。

- ① AとBとC
② AとB
③ AとC
④ BとC
⑤ A
⑥ B
⑦ C
⑧ 含まれるものはない

現代社会

会話文Ⅱ

クリタ：先生，姉へのインタビューを通じて，経営者として会社を成長させていく上では，出資者である株主との関係が重要だと気付きました。

先生：そうですね。所有と経営の分離がなされている会社には，次のような問題があることが経済学でも指摘されています。株主が経営者を選んだ後，経営者の行動を完全に監視しきれないため，経営者が企業の人事や利権を支配するといった自分自身の目標を優先するあまり会社の業績が低迷し，株主に不利益をもたらすという問題です。これは，株主と経営者③双方の利害が一致するインセンティブの仕組みを導入することで解決を図ることができます。これに類似する事例は株主と経営者との関係に限った話ではありません。

クリタ：その他にも，会社には，④提供する製品やサービスに関する責任や，⑤労働者を雇用する上で果たすべき義務や責任があることを知りました。

先生：お姉さんのように⑥社会保障に関わる問題を独自の技術で解決しようと起業することはとても重要なことです。ただし，介護用ロボットの世界では，⑦企業は激しい市場競争にさらされています。発表ではこの点についても触れるといいと思いますよ。

- 問 4 下線部◎に関して、先生が示してくれた次のインセンティブについての仮説的な事例に関するノート中の **ア** には後の A・B の記述のいずれかが、**イ** には後の C・D の記述のいずれかが入る。**ア**・**イ** に当てはまるものの組合せとして最も適当なものを、後の①～④のうちから一つ選べ。
- 23**

インセンティブについての仮説的な事例に関するノート

事例Ⅰ 保険会社と加入者の問題

民間の医療保険に加入することで安心して、加入者が以前よりも不摂生な生活を送るようになった。その結果、病気になる加入者が増加し、保険会社が支払うことを想定した保険金総額を超えてしまった。

・対処するインセンティブの仕組み→ **ア**

事例Ⅱ レストラン店長とアルバイト従業員の問題

レストランで給仕アルバイトを採用したが、雇われたことに安心して、アルバイトが店長の目を盗んで仕事をサボるようになった。その結果、レストランでの給仕サービスが滞るようになった。

・対処するインセンティブの仕組み→ **イ**

ア に入る記述

- A 加入後の病院での治療期間が長いほど、加入者が支払う保険料を段階的に高くなるように設定する。
- B 加入時に、加入者の健康状態が良いほど、加入者が支払う保険料を段階的に低くなるように設定する。

イ に入る記述

- C 採用時に、これまでの職歴が長いほど、時給と担当する一日当たりの最低給仕数を高くなるように設定する。
- D 通常の時給に加えて、レストランで給仕した数に応じた追加の報酬を用意する。

- | | | | | | |
|---|-----|-----|---|-----|-----|
| ① | ア—A | イ—C | ② | ア—A | イ—D |
| ③ | ア—B | イ—C | ④ | ア—B | イ—D |

現代社会

問 5 下線部㉑に関連して、企業は消費者に対しても、製品やサービスについて責任を負っている。消費者保護についての日本の法制度に関する記述として最も適当なものを、次の①～④のうちから一つ選べ。 24

- ① 消費者保護基本法を改正し、消費者の権利の尊重およびその自立の支援を基本理念とする法律として、消費者基本法が制定されている。
- ② 消費者契約法によれば、事業者が契約にあたって不当な勧誘をした場合、消費者はその契約をいつでも取り消すことができる。
- ③ 訪問販売などで商品を購入した場合、消費者がクーリングオフによって契約を解除するためには、違約金を支払うことが必要である。
- ④ 消費者金融の過度な利用などによる多重債務の問題が深刻化したことに対処するために、金融再生法が制定されている。

問 6 下線部㉒に関して、労働者の権利や使用者の義務についての日本の法制度に関する記述として最も適当なものを、次の①～④のうちから一つ選べ。

25

- ① 日本国憲法において労働者に認められている、いわゆる労働三権には、団結権、団体交渉権のほか、勤労権が含まれる。
- ② 労働者の権利を実質的に保障するために定められている、いわゆる労働三法には、労働組合法、労働関係調整法のほか、労働契約法が含まれる。
- ③ 障害者雇用促進法によれば、事業主は、全従業員のうち障害者を一定の割合以上、雇用する義務を負っている。
- ④ 業務上の災害について労働者の損失を補償する労災保険の保険料は、事業主と政府が負担することとされている。

問 7 下線部㉑に関して、日本の社会保障に関する記述として最も適当なものを、次の①～④のうちから一つ選べ。 26

- ① 朝日訴訟において、最高裁判所は、憲法 25 条の規定は、直接個々の国民に具体的な権利を保障したものであると判断した。
- ② 堀木訴訟において、最高裁判所は、障害福祉年金と児童扶養手当の併給を禁止した法律の規定は、憲法 25 条に違反すると判断した。
- ③ 介護保険制度において、介護サービスにかかる費用の財源には、保険料のほかに公費が投入されている。
- ④ 後期高齢者医療制度が改正され、75 歳以上の高齢者が医療機関に支払うべき医療費の自己負担割合が、引き下げられている。

問 8 下線部㉒に関して、市場競争と企業に関する記述として最も適当なものを、次の①～④のうちから一つ選べ。 27

- ① 高い専門性や技術力を発揮して新しい市場の開拓に挑戦する企業を、コングロマリットという。
- ② 製造業において、中小企業が大企業から製造部品の発注を継続的に受ける関係を、経済の二重構造という。
- ③ 証券取引所を通じて、不特定多数の者が当該会社の株式の売買を行うことのできる会社を、持株会社という。
- ④ 市場占有率を高める企業の戦略として、製品の品質やアフターサービスなどを競うことを、非価格競争という。

現代社会

第5問 現代社会の授業でキタノさんは、メディア・リテラシーについて学習した。その授業で、「みなさんはどのようにメディアと付き合えばよいでしょうか」との先生の問いかけに関心をもった。そこで、キタノさんはメディアに対する私たちの関わり方を調べることにした。次の問い(問1～3)に答えよ。(配点 11)

問1 はじめにキタノさんは、自分たちとメディアはどのような関係にあるか調べ始めた。その例として、先日行われた選挙報道が具体例になるのではないかと考え、先生に質問に行った。次の会話文中の **ア** には後の a・b の記述のいずれかが、 **イ** には後の c・d の語句のいずれかが、 **ウ** には後の e・f の語句のいずれかが入る。 **ア** ～ **ウ** に入るものの組合せとして最も適当なものを、後の①～⑧のうちから一つ選べ。 **28**

キタノ：主権者として選挙のときは、立候補者などの政策をきちんと調べ比較して、投票先を決めることは当然だと思います。ただし、実際はメディアの報道が、私たちの投票行動に影響を与えているような気がするのですが、どうでしょうか。

先生：良いところに気が付きましたね。例えばAさんとBさんが立候補している選挙区でメディアが世論調査を行い、その結果を受けて、「A候補、支持層を広げ当選の勢い」と報じたとき、その記事を見た有権者はどのような投票行動をとると思いますか。

キタノ：**ア** と考える有権者はA候補に投票すると思います。比例区に同一順位で重複立候補した小選挙区の候補者が **イ** の高い順に復活当選する日本の衆議院選挙のような場合を除いて、小選挙区制では得票第一位の候補者しか当選しないから、小選挙区制ではなおさらA候補に投票しようとすると思います。

先生：それは、世論調査で優勢とされた候補者への支持が拡大するバンドワゴン(勝ち馬)効果と言われているものですね。反対に「B候補、苦戦中」という記事を見たら、有権者はどのような投票行動をとると思いますか。

キタノ：「B 候補がかわいそうだ。頑張ってもらいたい」と考える有権者は、B 候補に投票するような気がします。

先生：このメディアの影響は、世論調査で劣勢とされた候補者への支持が増加するアンダードッグ効果(判官びいき)と呼ばれています。説明してきた二つの効果のうち、**ウ** が強く働くと、世論調査と実際の選挙結果が入れ替わることもあり得そうですね。

キタノ：よく分かりました。では次に、私たちはどのくらいメディアを信用しているかを調べてみたいと思います。

ア に入る記述

- a 自分が投票したい候補者と異なる候補者に投票することになって、自分の票を死票としたくない
- b 自分が投票したい候補者と異なる候補者には投票したくないので、自分の票が死票となっても構わない

イ に入る語句

- c 得票率
- d 惜敗率

ウ に入る語句

- e バンドワゴン効果
- f アンダードッグ効果

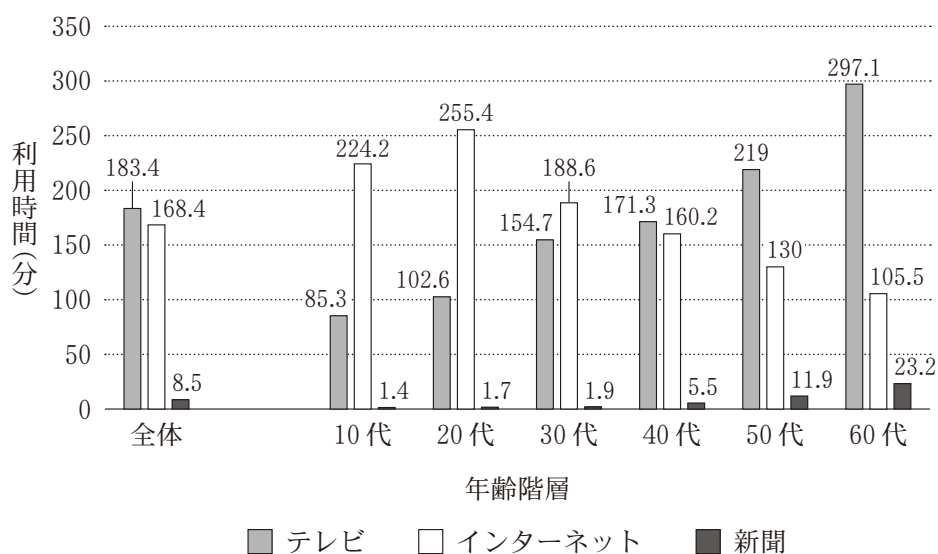
- | | | | | | | | |
|---|-----|-----|-----|---|-----|-----|-----|
| ① | ア－a | イ－c | ウ－e | ② | ア－a | イ－c | ウ－f |
| ③ | ア－a | イ－d | ウ－e | ④ | ア－a | イ－d | ウ－f |
| ⑤ | ア－b | イ－c | ウ－e | ⑥ | ア－b | イ－c | ウ－f |
| ⑦ | ア－b | イ－d | ウ－e | ⑧ | ア－b | イ－d | ウ－f |

現代社会

問 2 キタノさんはメディアの利用実態と信頼性に興味をもち、次の資料1・2を収集した。資料1はメディアごとの利用時間を示し、資料2は各メディアについて、情報源としてどの程度重要と評価しているかという「重要度」と、どの程度信頼できる情報があると考えているかという「信頼度」を示している。資料1・2を説明した記述として最も適当なものを、後の①～④のうちから一つ選べ。

29

資料1 メディア別平均利用時間(平日1日あたり)



(注1) 回答項目の一部を省略している。

(注2) 平均利用時間は、そのメディアを1日全く利用していない人はゼロ(分)として計算している。

総務省情報通信政策研究所「令和2年度情報通信メディアの利用時間と情報行動に関する調査報告書」(令和3年8月)により作成。

資料2 情報源としての重要度および信頼度(年齢階層別)(%)

	テレビ		インターネット		新聞	
	重要度	信頼度	重要度	信頼度	重要度	信頼度
全体	86.7	61.6	77.3	29.9	52.8	66.0
10代	84.5	65.5	89.4	31.0	28.2	62.7
20代	77.0	54.9	85.9	36.2	31.5	54.9
30代	82.4	56.8	82.8	28.4	38.8	60.4
40代	89.9	62.3	82.8	29.1	53.7	70.9
50代	90.6	62.4	72.1	24.0	69.7	67.2
60代	91.1	67.4	58.5	32.6	75.5	74.1

(注1) 「重要度」は「非常に重要」から「まったく重要でない」までの5件法による回答のうち「非常に重要」と「ある程度重要」を合計したものである。「信頼度」は「全部信頼できる」から「まったく信頼できない」までの5件法による回答のうち「全部信頼できる」と「大部分信頼できる」を合計したものである。メディアについては調査では「雑誌」を含んでいるが、上記では省略した。

(注2) 「インターネット」には、動画系(インターネットによって配信される動画)、テキスト系(ウェブサイトの閲覧、ブログ、漫画等)、コミュニケーション系(SNS、ゲーム、ネット通話等)が含まれる。

資料1と同じ出典により作成。


- ① 資料1によると、10代から30代までの各年齢階層のインターネット利用時間は、他のメディアと比較して最も長い。資料2によると、すべての年齢階層でインターネットに対する重要度は70%を超えるが、信頼度は20%台から30%台である。
- ② 資料1によると、「全体」ではテレビの利用時間は他のメディアと比較して長く、特に40代以降の各年齢階層では他のメディアよりもその利用時間が長い。資料2によると、テレビに対する信頼度はすべての年齢階層で新聞に次いで高く、その重要度もすべての年齢階層で70%を超えている。
- ③ 資料1によると、新聞の利用時間は、「全体」では他のメディアと比較して最も短い。資料2によると、新聞に対する信頼度は、「全体」では他のメディアと比較して最も高い。
- ④ 資料1によると、60代はすべての年齢階層のなかでインターネットの利用時間が最も短い。資料2によると、60代はすべての年齢階層のなかでインターネットに対する重要度は最も低い、信頼度は最も高い。

現代社会

問 3 キタノさんは、Z市教育委員会による市の教育改革(「誰一人取り残さない教育」という方針の下、新しい学びのプログラムの開発、および教員の働き方の改善を進めてゆくもの)を発表した記者会見について報道した次の記事1・2を比較しながら、クラスメイトのナンバさんとともに情報の読み解き方を議論した。




後の会話文中の ア イ には後の a・b の記述のいずれかが、 イ エ には後の c・d の記述のいずれかが入る。 ア イ に入るものの組合せとして最も適当なものを、後の①～④のうちから一つ選べ。

記事 1

 EDUinfo チャンネル 2022. 11. 30. 18 : 40

学校を取り戻せ！

Z市の教育長が「誰一人取り残さない教育」という新たな方針を発表。すべての子どもの学びの保障に乗り出す。ただ、授業時間数の不足から課外活動や部活動は制限されることになり、学力を保障する授業が軸となる。教員の業務を教員目線で抜本的に整理・削減しZ市の教育を良い方向へ導く、魅力的な教育改革である。

 コメント 260  いいね！ 18.3万  共有

Y.N : 部活動の制限はどうなんだろう……

EDUinfo チャンネル : 制限は多忙な先生の時間捻出に効果的だと思います。

OKEgasukinaHSG : 私は部活(吹奏楽部に入っています)がなくなってしまうと困ります。

Taromaru : 先生の多忙化解消は重要だと思う。

...

記事 2

△△新聞

2022年12月1日

Z市教育長

「誰一人取り残さない教育」を提言

教育長は、教師の多忙化や子どもの学力保障の重要性を指摘し、教育改革を行うことを発表した。Z市は、教員の働き方の改善、および新しい学びのプログラムをデザインすることを通して、子ども一人一人を大切にすることを目指す。会見後、教育委員会を担当者は、本紙記者の取材に対して、隣接するP市も子どもの個性をいかした教育を目指して、半年前から同様の教育改革を進めていることも背景の一つであると指摘した。

改革は、大学教員や学校教員とともに専門家会議を構成して進めていく方針が示された。(記者〇〇〇〇)

現代社会

ナンバ：二つを比較すると、記事1は記者会見の内容よりも発信者の意見を強調したタイトルになっているように感じます。その上で、情報の発信者と受信者間、および受信者どうしでコメントをやり取りすることができるため、双方向的なコミュニケーションになっています。

キタノ：情報の中身に注目すると、記事2は記者名が明記されていることに加え、ア。

ナンバ：この記事1と記事2の比較から、メディアの特性の違いを理解して、情報を利用する必要があることが分かりました。

キタノ：報道される「事実」もまたメディアにより異なる場合が少なくありませんので、事実に関して、できるだけ正確な情報を得るためには、イことが大事ですね。

アに入る記述

- a 会見で語られた内容を紹介し、背景情報を追加して発出されています
- b 会見で語られた内容に対する賛否を両論併記して発出されています

イに入る記述

- c 多様なメディアから多くの記事を集めて比較したり、分析したりする
- d 自分と同じ意見をもつ一つのメディアの記事のみを分析する

- ① アー a イー c
- ② アー a イー d
- ③ アー b イー c
- ④ アー b イー d