

世界史 A

(解答番号 ~)

第1問 世界史上の様々な建築物について述べた次の文章A・Bを読み、後の問い(問1～6)に答えよ。(配点 20)

A 次の写真は、中国北京市の南西にある永定河に架かる橋を撮影したものである。

写 真



この橋は、1189年に建設が始まり、南方から金の都へと至る途上に架けられた。ヴェネツィアの商人マルコ・ポーロは 代の中国を訪れたとされるが、その旅行記『世界の記述』には、「世界に匹敵するものはないほどの見事な石橋」と記されている。

今日見る姿は後に修復されたもので、欄干に数百体もの獅子ししの像があり、その豪華な造りが多くの詩にうたわれた。また、この橋は古来、月見の名所としても知られ、 の乾隆帝は橋のたもともとに碑を建て、その美しさを讃たえた。

この美しい印象を一変させたのが、1937年7月7日にこの橋の近くで起こった日中両国軍の衝突である。㉔これをきっかけに日本が軍事行動を拡大すると、中国では中国国民党と中国共産党が提携して対抗し、両国は全面戦争の状態に陥った。

問 1 前の文章中の空欄 **ア** の王朝の拡大について述べた文として最も適切なものを、次の①～④のうちから一つ選べ。 **1**

- ① 南宋を滅ぼした。
- ② 渤海を滅ぼした。
- ③ 遼を滅ぼした。
- ④ ジャワを征服した。

問 2 前の文章中の空欄 **イ** の王朝が実施した政策について述べた文として最も適切なものを、次の①～④のうちから一つ選べ。 **2**

- ① 文字の獄による思想統制を行った。
- ② 農民に土地を割り当てる均田制を実施した。
- ③ 郡国制を採用して地方を統治した。
- ④ 交鈔と呼ばれる紙幣を発行した。

問 3 下線部①の提携に関する説明あ・いと、その当時の中国国民党の指導者の名 X・Y との組合せとして正しいものを、後の①～④のうちから一つ選べ。

3

提携に関する説明

- あ 五・三〇事件による反帝国主義の高まりを背景とした。
- い 西安事件によって成立が促された。

中国国民党の指導者の名

- X 孫文
- Y 蔣介石

- ① あ—X ② あ—Y ③ い—X ④ い—Y

世界史 A

B トルコ共和国のイスタンブルに立つアヤ＝ソフィア(ハギア＝ソフィア)は、これまでの長い歴史の間、その時々政権によって、異なる信仰の舞台とされてきた。現在、我々が目にするアヤ＝ソフィアは、東ローマ帝国(ビザンツ帝国)の都であったコンスタンティノープルに6世紀に建設(再建)された、巨大なドームを有する宗教建築物であった。

その後、1453年にこの都市を征服して東ローマ帝国を滅ぼしたオスマン帝国の君主 **ウ** は、壮大なアヤ＝ソフィアを破壊することはせず、自らの信仰に適合させるような改修を施して利用を継続した。これに伴って、①後に建物の四隅には、礼拝を呼び掛けるための尖塔(光塔)が付設された。

それから4世紀半以上が経過した1922年にオスマン帝国は解体され、翌年にはトルコ共和国が成立した。その初代大統領に就任した **エ** は1934年、アヤ＝ソフィアを特定の宗教に属さない施設である博物館とした。

アヤ＝ソフィアは、その後85年以上にわたって博物館として利用されてきたが、2020年7月、同国のエルドアン大統領は、これをオスマン帝国時代の用途に戻す決定を下した。この出来事はアヤ＝ソフィアそれ自体はもとより、これまで長らくトルコ共和国が基本としてきた政治的姿勢にとってもまた、重要な歴史的転換点となるのではないかと捉えられている。

問 4 前の文章中の空欄 **ウ** に入れる人物の名 **あ・い** と、前の文章から読み取れるアヤ＝ソフィアが果たした役割の歴史的変遷を示した **X～Z** との組合せとして正しいものを、後の①～⑥のうちから一つ選べ。 **4**

ウ に入れる人物の名

あ メフメト 2 世

い アッバース 1 世

アヤ＝ソフィアが果たした役割の歴史的変遷

X 教会(聖堂) → モスク → 博物館 → 教会(聖堂)

Y 教会(聖堂) → モスク → 博物館 → モスク

Z モスク → 教会(聖堂) → 博物館 → モスク

① あ－X

② あ－Y

③ あ－Z

④ い－X


⑤ い－Y

⑥ い－Z

世界史 A

問 5 下線部①について、次の図はアヤ＝ソフィアを撮影した写真を一部加工したものである。楕円で囲まれた尖塔(光塔)の名称として最も適当なものを、後の①～④のうちから一つ選べ。

図



- ① アラベスク
- ② カーバ
- ③ ミナレット
- ④ ミニアチュール

問 6 前の文章中の空欄 の人物の事績として最も適当なものを、次の①～④のうちから一つ選べ。

- ① イスタンブルを首都とした。
- ② 参政権付与など女性解放を進めた。
- ③ カリフ制を復活させた。
- ④ セーヴル条約を締結した。

第2問 隣接する2か国間の関係について述べた次の文章A・Bを読み、後の問い(問1～6)に答えよ。(配点 20)

A 次の資料は、フランスの保守派知識人バンヴィルが、自国の対外関係について分析した1922年の日記の一部である。あるクラスで、この資料を基に授業が行われている。(引用文には、省略したり、改めたりしたところがある。)

資料

これまでの仏英関係は、海と陸の両面から、次のようにまとめることができる。

海上における両国のライバル関係は、ずっと前にイギリスの明白な優位が確立して以来、終わりを迎えた。イギリスは海の支配者となった。同時にそのことは、植民地をめぐるライバル関係を収束させた。多くの植民地を有するこの2か国は、相互の所有物の均衡を保つことを保証しあったのである。

大陸について言えば、㉑特定の国がヨーロッパを支配すべきでないというのが、イギリスの基本方針である。1914年、中立国 **ア** が侵犯された後にイギリスが我々の味方として参戦したことは、まさにその基本方針にのっとったものであった。しかし全く同じ方針に基づいて、イギリスは1870年から1871年にかけて我々が敗北するのを黙って見ていた。ドイツの統一がヨーロッパの平和と安定の保証になると、イギリスは信じたのである。こうした先例に従えば、我々がヨーロッパの諸事件においてイギリスとの永続的な協力関係を期待することは困難である。

先生：資料にある「両国のライバル関係」の歴史について知っていることはありますか。

中島：北アメリカ大陸では、両国の間でブラッシーの戦いが起こりました。

城田：両国の相互不干渉を主張したモンロー宣言が出されたことも、両国のライバル関係を示す歴史だと思います。

土屋：東南アジアの植民地化が進む中で、この地域に進出した両国の勢力均衡を背景に、タイは独立を維持しました。こうした歴史も、両国の競争関係を表しています。

世界史 A

問 1 三人の生徒(中島, 城田, 土屋)の発言の正誤について述べた文として最も適当なものを, 次の①~④のうちから一つ選べ。 7

- ① 土屋さんのみ正しい。
- ② 中島さんと土屋さんの二人のみが正しい。
- ③ 三人とも正しい。
- ④ 三人とも誤っている。

問 2 下線部㉔と同様の考えに基づいて, ナポレオン戦争で混乱した秩序を再建するために開かれた国際会議やその会議を通じて成立した国際体制について述べた文として最も適当なものを, 次の①~④のうちから一つ選べ。 8

- ① この会議は, プロイセン外相の主導の下で開催された。
- ② この国際体制の下で, ライン同盟が結成された。
- ③ この会議は, 「会議は踊る, されど進まず」と風刺された。
- ④ この国際体制の下で, オーストリア, ロシア, スペイン, イギリス, フランスの間で五国同盟が結成された。

問 3 前の資料中の空欄 **ア** に入れる国の名あ・いと、資料から読み取れるバンヴィルの主張 X・Y との組合せとして正しいものを、後の①～④のうちから一つ選べ。 **9**

ア に入れる国の名

あ ポーランド

い ベルギー

資料から読み取れるバンヴィルの主張

X これまで常にフランスとの友好関係を最優先してきたイギリスは、今後も同盟相手として信頼できるであろう。

Y イギリスが常にフランスの味方になるとは限らないため、今後も注意が必要であろう。

① あ－X

② あ－Y

③ い－X

④ い－Y

世界史 A

B 次の資料 1～3 は、清朝とロシアとが締結した各々の条約の一部である。(引用文には、省略したり、改めたりしたところがある。)

資料 1

アイグン条約第 1 条・天津条約第 9 条を実現するために、アムール川(黒竜江)の左岸(北方)に位置する土地はロシア帝国に属し、右岸(南方)に位置する土地は、ウスリー川との合流点まで、清帝国に属するものと定める。

更に遠方、ウスリー川との合流点からハンカ湖までの国境線は、ウスリー川及びソングチャ川となる。これらの河川の東岸(右岸)に位置する土地はロシア帝国に属し(注1)、西岸(左岸)は清帝国に属する。

(注1) この条約でロシアが新たに獲得したウスリー川と日本海に挟まれた領域は、ロシア帝国の行政区画では沿海州となった。

資料 2

神聖なる清国皇帝の命により国境画定のため派遣された高官らは、ツァーリ陛下の全権大使らとネルチンスク近郊に集められ、清帝国とロシア帝国との間に設定されるべき境界について、以下の諸条項を相互の合意により決議し、取り決める。

資料 3

⑥ ドイツ、オーストリア＝ハンガリー、ベルギー、スペイン、アメリカ合衆国、フランス、英国、イタリア、日本、オランダ、ロシア、そして清国の全権代表は、清国が列強の要求を満たしたことを確認するため会合した。

清国皇帝陛下は諸列強に対し、4 億 5 千万海関両(注2)の賠償金支払いを約束した。

清国は列強各国に対し、警備のため、北京の公使館が占める街区に恒常的に警備隊を置く権利を承認した。

(注2) 海関両—清国による関税徴収の際の通貨単位。

問 4 前の資料 1～3 が年代の古いものから順に正しく配列されているものを，次の①～⑥のうちから一つ選べ。 10

- ① 資料 1 → 資料 2 → 資料 3
- ② 資料 1 → 資料 3 → 資料 2
- ③ 資料 2 → 資料 1 → 資料 3
- ④ 資料 2 → 資料 3 → 資料 1
- ⑤ 資料 3 → 資料 1 → 資料 2
- ⑥ 資料 3 → 資料 2 → 資料 1

問 5 前の資料 1 の条約をきっかけに建設された都市として最も適当なものを，次の①～④のうちから一つ選べ。 11

- ① モスクワ
- ② ウラジヴォストク(ウラジヴォストーク，ウラジオストク)
- ③ サンクト＝ペテルブルク(ペテルブルク)
- ④ セヴァストーポリ(セヴァストポリ)

問 6 下線部⑥の国々の歴史について述べた文として誤っているものを，次の①～④のうちから一つ選べ。 12

- ① 日本は，日露戦争の結果として，南満州鉄道の利権を喪失した。
- ② フランスは，20 世紀後半に NATO の軍事機構から脱退した。
- ③ ベルギーは，フランス七月革命の影響で独立を達成した。
- ④ アメリカ合衆国では，19 世紀後半に奴隷解放宣言が出された。

世界史 A

第 3 問 世界史の授業について述べた次の文章 A～C を読み、後の問い(問 1～7)

に答えよ。(配点 24)

A 世界史の授業で、先生がある本の一部を見せて、解説をしている。

先生：これは『1610 年に始まったある旅の記録』という本です。サンズというイギリス人が作者で、彼が地中海を巡った旅行記です。1615 年に出版され、人気でした。イギリスが当時どのような状況だったか分かりますか。

長谷川：④ 数十年間統治した女王が没して、次の王朝が始まった頃ですね。

先生：そのとおりです。サンズの父は、この女王の下でヨーク市の大主教を務めました。

内田：当時のイギリス人は、地中海に関心があったのでしょうか。

先生：そのとおりです。『ロミオとジュリエット』を知っていますか。

土井：シェークスピアの悲劇ですよ。去年の文化祭の演劇でやりました。

先生：この作品は北イタリアが舞台です。シェークスピアには、で独裁的権力を握ったカエサルを扱ったものなど、古代を舞台にした一連の作品があり、いずれも評判となりました。

内田：サンズは、ヨーロッパ以外の地域も訪れたのですか。

先生：を見てください。この本の挿絵です。彼はエジプトも訪れています。

長谷川：この時代は、古代エジプトの文字はまだ解読されていないのですよね。

先生：そのとおりです。ロゼッタ＝ストーンが発見されるのはですから。の左端のスフィンクスも頭部以外はほぼ砂に埋もれているように、発掘も進んでいません。我々の知る、今のエジプトとは遺跡の様子は異なっていたのです。



問 1 下線部③の君主の治世に起こった出来事について述べた文として最も適切なものを、次の①～④のうちから一つ選べ。 13

- ① アイルランド自由国が、自治領として認められた。
- ② イギリスの東インド会社が設立された。
- ③ 穀物法が廃止された。
- ④ イギリス艦隊が、スペインの無敵艦隊に敗れた。

問 2 前の文章中の空欄 ア と イ に入れる語句の組合せとして正しいものを、次の①～④のうちから一つ選べ。 14

- ① アーアテネ
イーフランス軍がエジプトに遠征した時
- ② アーアテネ
イーイギリスがエジプトを保護国化した時
- ③ アー共和政ローマ
イーフランス軍がエジプトに遠征した時
- ④ アー共和政ローマ
イーイギリスがエジプトを保護国化した時

世界史 A

B 高校生の田所さんと向井さんは、デパートの食料品売り場で、色も形も様々な食塩が売られているのを見た。それらの食塩が、世界の各地から輸入されたものであることを知った田所さんと向井さんは、塩の流通に興味を持って調べ、世界史の授業で発表した。次の2つのメモは、その発表のためにまとめたものである。

田所さんのメモ

13世紀、ニジェール川流域では、①北アフリカのムスリム商人がもたらすサハラ砂漠の岩塩と、サハラ砂漠南側の西アフリカの とを交換する交易が行われ、サハラ砂漠南側の西アフリカでは、 。

向井さんのメモ

20世紀前半、イギリスの植民地支配下に置かれていたインドで、植民地政府による塩の専売に抗議して「塩の行進」が行われた。

問 3 下線部①の歴史について述べた文として波線部の正しいものを、次の①～④のうちから一つ選べ。

- ① 10世紀に北アフリカで成立した ブワイフ朝 は、シーア派を信奉した。
- ② チュニジア では、1881年にマフディーの反乱(マフディー派の抵抗運動)が起こった。
- ③ モロッコ では、1979年の革命で王政が打倒された。
- ④ アルジェリアは、20世紀後半に フランス から独立した。

問 4 田所さんのメモの空欄 **ウ** に入れる語あ・いと, **エ** に入れる文X・Yとの組合せとして正しいものを, 後の①~④のうちから一つ選べ。 **16**

ウ に入れる語

あ タバコ

い 金

エ に入れる文

X イスラーム教を受け入れるマリ王国が成立した

Y ムスリム商人と現地の人々の文化が融合し, スワヒリ文化が形成された

- ① あ—X
- ② あ—Y
- ③ い—X
- ④ い—Y

問 5 向井さんのメモのような, 物資の流通や利権をめぐる起こった出来事について述べた文として最も適当なものを, 次の①~④のうちから一つ選べ。

17

- ① マラッカ王国は, 香辛料貿易の独占を目指してアンボイナ事件を起こした。
- ② 清は, イギリスによるアヘン貿易の禁止に対抗してアヘン戦争を起こした。
- ③ 19世紀後半のイランで, タバコ利権がイギリスに譲渡されたことに抗議するタバコ=ボイコット運動が起こった。
- ④ 第4次中東戦争の際にイスラエルが発動した石油戦略によって, 世界的な石油危機が起こった。

世界史 A

C あるクラスで、19世紀中頃にインドで起こった武装反乱についての授業が行われている。(引用文には、省略したり、改めたりしたところがある。)

赤 井：この㉔イギリスに対する武装反乱について、教科書などには、「インド大反乱」や「シパーヒーの反乱」といった呼称が見られます。

先 生：そうですね。複数の呼称は、様々な人々が参加した反乱が持つ複雑な性格を反映していると言えます。

白 井：この反乱には、㉕反乱の口火を切ったシパーヒーだけでなく、農民や職人から領主層、さらにはムガル皇帝までも加わったと習いました。

先 生：そのとおりです。複雑な性格を持つ反乱の歴史的評価も様々です。次の資料は、民族運動の指導者であったネルーの著書の一部です。ここからは、ネルーがこの反乱をどのように理解し評価していたかが読み取れます。

資 料

この反乱は単なる軍隊の蜂起ではなく、イギリスに敵対する全般的な民衆反乱であった。反乱は、憎むべき外国人に対するインド独立戦争へと発展した。しかし、それは専制的な皇帝を上にも頂く旧来の封建的な型の独立であった。そこには民衆の自由は含まれていなかった。しかし、多くの民衆が、自らの悲惨な状況と貧困を、イギリスの到来と結び付けて、反乱に合流した。ヒन्दゥー教徒もイスラーム教徒もこの戦いに全面的に参加した。北部及び中部インドのイギリス支配は、数か月間、非常に危うい状態に置かれた。しかし、反乱は自らの中に失敗の原因を抱えていた。それは、封建的な秩序という失われた大義のための戦いだったのだ。

青 井：資料中の「封建的」とは、どういう意味でしょうか。

先 生：ここでは、「ムガル皇帝などの王侯が君臨する政治体制に基づく」といった意味と理解してください。

問 6 下線部㉓の国の 19 世紀の歴史について述べた文として最も適当なものを、次の①～④のうちから一つ選べ。 18

- ① サッチャーの保守党政権が成立した。
- ② イギリス国教会が成立した。
- ③ 初の労働党政権が成立した。
- ④ 労働者が、チャーティスト運動を行った。

問 7 下線部㉔について説明した語句あ・いと、前の文章から読み取れるネルーのこの武装反乱に対する認識 X・Y との組合せとして正しいものを、後の①～④のうちから一つ選べ。 19

下線部㉔について説明した語句

- あ 東インド会社のインド人傭兵
- い ムスリム君主に仕える奴隷軍人

ネルーのこの武装反乱に対する認識

- X ムガル皇帝を中心とした政治体制に回帰することを目指して戦われた。
- Y ヒンドゥー教徒とイスラーム教徒との間の宗教的な対立が原因となって失敗した。

- ① あ－X
- ② あ－Y
- ③ い－X
- ④ い－Y

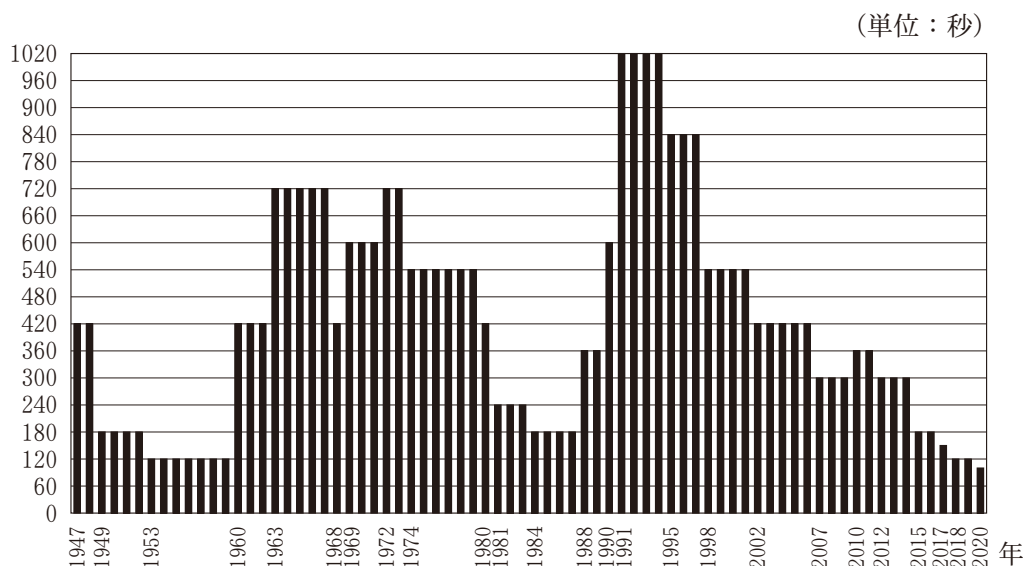
世界史 A

第 4 問 戦争と平和に関する人類の知恵の歴史について述べた次の文章 A・B を読み、後の問い(問 1～5)に答えよ。(配点 17)

A あるクラスで、現代の国際問題についての授業が行われている。

先生：アメリカ合衆国の科学誌『原子力科学者会報』が「終末時計」というものを公表しています。終末時計は、人類滅亡を時計の午前零時とし、時計の針の進み具合によって人類に残された時間を象徴的に表現したものです。これを基に、時計が示す午前零時までの残り時間の推移を示すと**グラフ**のようになります。棒グラフの棒が短いほど、終末すなわち午前零時に近づいたことを意味しています。

グラフ 終末時計が示す残り時間の推移



大島：えっ、じゃあ 2020 年は最も時計の針が進んで、終末に近づいているということですか。

先生：残念ながら、そういうことですね。①原子力や核兵器の開発が進むなかで、この終末時計は、核戦争などによる人類滅亡の危機を警告するた

めに、1947年に初めて発表され、随時更新されてきました。近年は、気候変動による環境破壊や生物化学兵器、核廃棄物の問題等も考慮して終末時計の時刻が決定されています。

大 島：このグラフからは、20世紀において核戦争の危機が迫り人類の終末が近づいた時期もあれば、人類の努力で危機が回避されてきた時期もあることが分かるんですね。これから先、私たちは、終末時計の針を午前零時から遠ざける努力をしていかななくてはなりませんね。

問 1 下線部③に関連する出来事について述べた文として誤っているものを、次の①～④のうちから一つ選べ。 20

- ① 第五福竜丸が、「死の灰」を浴びた。
- ② 第二次世界大戦中に、広島と長崎で原爆が投下された。
- ③ チェルノブイリで、原子力発電所の事故が起こった。
- ④ 中華人民共和国が、中距離核戦力(INF)全廃条約に参加した。

問 2 前のグラフ中の終末時計が示す残りの時間の推移について述べた次の文あといの正誤の組合せとして正しいものを、後の①～④のうちから一つ選べ。

21

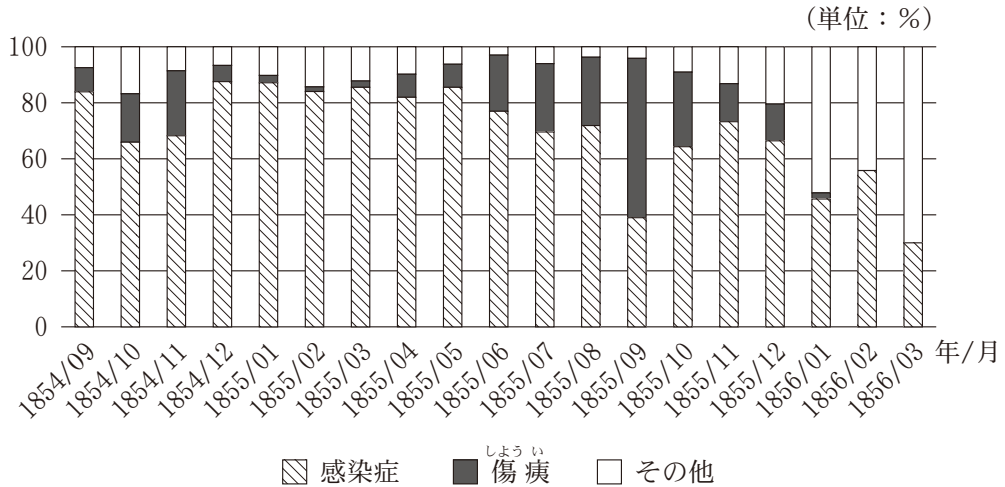
- あ ソ連がアフガニスタンに侵攻していた時期に、終末時計の針が複数回午前零時に近づいた。
- い 冷戦終結が宣言された時期に、終末時計の針が午前零時から遠ざかった。

- ① あ—正 い—正
- ② あ—正 い—誤
- ③ あ—誤 い—正
- ④ あ—誤 い—誤

世界史 A

B 次のグラフは、クリミア戦争での軍病院における死因の割合の変化を示したものである。

グラフ 軍病院における死因の割合の変化



(Florence Nightingale, *Notes on Matters affecting the Health, Efficiency, and Hospital Administration of the British Army* より作成)

黒海から地中海への海路を確保したいロシアは、ア に対して、この戦争を起こした。イギリスをはじめとする幾つかの国々が ア を支援したために、戦争は長期化し、被害も拡大した。約2年にわたった戦争は、最終的にロシアの敗北で終わり、⑥ 戦争の最中に即位したロシア皇帝は新しい方針を打ち出した。

またこの戦争は、「近代看護教育の生みの親」と呼ばれるナイティンゲールが活躍した戦争でもあった。彼女はイスタンブルの軍病院にて看護に従事だけでなく、病院内の衛生状況を調査し、死傷者増加の原因を明らかにした。上のグラフは、彼女が行った統計調査をまとめたもので、死因の割合の変化を示したものである。彼女はこの調査を公表し、戦場での医療環境の改善を訴えていった。このような彼女の活動は、医療環境の向上のみならず、衛生学や統計処理といった科学の発展、そしてそれに基づく看護教育の体系化に寄与していった。また彼女の活躍を受け、戦時における疾病者の救護や衛生思想の重要性は共有され、デュナンによって国際組織として イ が設立された。

問 3 下線部①の人物の事績について述べた文として最も適当なものを、次の①～④のうちから一つ選べ。 22

- ① ヨーロッパの国々と、神聖同盟を結んだ。
- ② 農奴解放令を出し、農奴に身分的自由を認めた。
- ③ コルベールを重用し、重商主義を推し進めた。
- ④ 鉄血政策を掲げ、軍備を拡張した。

問 4 前の文章中の空欄 ア に入れる国の名あ・いと、グラフから読み取れる事柄X・Yとの組合せとして正しいものを、後の①～④のうちから一つ選べ。

23

ア に入れる国の名

- あ ギリシア
- い オスマン帝国

グラフから読み取れる事柄

- X 傷痕による死亡率が感染症による死亡率を上回った月もあった。
- Y 全ての時期で、感染症による死亡率が傷痕による死亡率を上回った。

- ① あ－X
- ② あ－Y
- ③ い－X
- ④ い－Y

世界史 A

問 5 前の文章中の空欄

イ

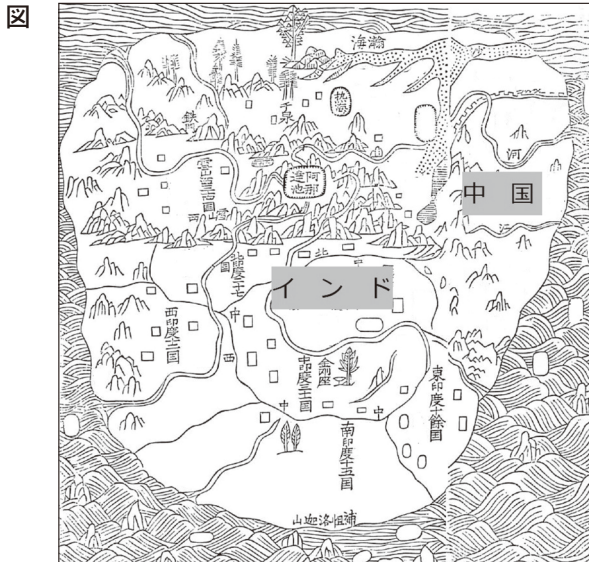
 に入れる語句として正しいものを、次の①～④のうちから一つ選べ。

24

- ① 国際労働機関 (ILO)
- ② 世界保健機関 (WHO)
- ③ 国際赤十字 (国際赤十字社)
- ④ 国連教育科学文化機関 (ユネスコ)

第5問 世界史上の異文化接触について述べた次の文章A・Bを読み、後の問い(問1～6)に答えよ。(配点 19)

A 次の図は「南瞻部洲図」という地図を一部加工したものである。



この地図は明代末期の1607年に中国で刊行されたもので、中国とインドを含む世界を描いた、言わば「世界地図」である。地図を作製した仏教の僧侶は、仏教経典に書かれた世界をできるだけ合理的に解釈しようとしているが、地図の南端には補怛洛迦山ふだらくさんという伝説上の仏教聖地が描かれる一方、地図が刊行された当時インドを支配していた **ア** という帝国についての情報は全くない。①当時のインドの現実は、地図に描かれた仏教的な世界とは大きく異なっていたのである。

この地図の刊行と同じ時期の中国では、②玄奘をモデルとした三蔵法師一行が「天竺てんじく」に旅をする『西遊記』が成立し、民衆の世界ではこの地図の世界観は違和感なく受け止められていた。主人公の孫悟空のイメージは、インド神話に影響を受けたとされ、『西遊記』はインドと中国の文化が融合したものと言える。インドと中国の両方から影響を受けた東南アジアでは、歴史的な経緯の違いによって、

世界史 A

文化の受容には差が見られた。㉔歴史上、南北で異なる勢力が存在することが多かったベトナムでは北部と南部で宗教や文化にも違いがある。

- 問 1 前の文章中の空欄 **ア** という帝国で起こった出来事 **あ・い** と、下線部㉔の歴史的背景として考えられる事柄 **X・Y** との組合せとして正しいものを、後の①～④のうちから一つ選べ。 **25**

ア という帝国で起こった出来事

- あ** シャー＝ジャハーンがタージ＝マハル廟を建設した。
い アウラングゼーブがジズヤを廃止した。

歴史的背景として考えられる事柄

- X** マウリヤ朝時代に、仏教に代わってヒンドゥー教が広まった。
Y イスラーム勢力のゴール朝が、北インドに侵入した。

- ① あ－X
② あ－Y
③ い－X
④ い－Y

- 問 2 下線部①の人物がインドに旅行した時代に中国を支配していた王朝の歴史について述べた文として最も適当なものを、次の①～④のうちから一つ選べ。

26

- ① 張騫が、西域に派遣された。
② 詩人の李白が活躍した。
③ 王安石による政治改革が行われた。
④ 徐光啓が、キリスト教に改宗した。

問 3 下線部㉔の地域の歴史について述べた文として最も適当なものを，次の①～④のうちから一つ選べ。 27

- ① ベトナム北部が，漢の武帝の支配を受けた。
- ② ベトナム南部で，スコタイ朝が建てられた。
- ③ ベトナム北部の王朝が，モンゴル帝国に滅ぼされた。
- ④ 南ベトナムの政権の主導で，ベトナム社会主義共和国が成立した。

世界史 A

B 次の図は、日本とヨーロッパの交流を示すものとして知られている。真ん中の黒い服を着た男性はヨーロッパの宣教師で、それ以外の人物は日本人の少年たちである。少年たちは宣教師から教育を受け、キリスト教を信仰する日本の大名の使節団としてヨーロッパに派遣された。彼らは 1584 年から 1586 年までヨーロッパに滞在し、当時のローマ教皇に謁見するなど、訪問した各地で歓迎を受けた。使節団は、アジアにおけるキリスト教布教の成功例として関心を集め、その動向を伝える出版物が数多く発行された。この図はその一例で、ドイツのアウクスブルクで出版されたものである。

図



ヨーロッパから帰国した使節団は、15 世紀に **イ** が始めたと言われる活版印刷の技術を日本に伝え、その技術を用いた宗教書などが盛んに出版された。しかし、日本でのキリスト教の布教や信仰の保護は長く続かなかった。江戸幕府は禁教令を発し、宣教師を追放するとともにキリスト教徒に改宗を強制した。以後、幕府・諸藩は厳しい禁教政策を採り、棄教を拒む者に対して過酷な迫害を加え、多くの殉教者を出した。こうして日本では、1873 年の禁令高札の撤廃まで、およそ 260 年間にわたって、キリスト教が禁じられることになったのである。

問 4 前の文章中の使節団がヨーロッパに派遣された世紀に起こった出来事について述べた文として最も適当なものを、次の①～④のうちから一つ選べ。

28

- ① アステカ王国が、スペインによって滅ぼされた。
- ② オランダの独立が、ウェストファリア条約で承認された。
- ③ オーストリア継承戦争が起こった。
- ④ コロンブスが、サンサルバドル島に到達した。

問 5 前の文章を参考にしつつ、キリスト教に関する出来事について述べた文として最も適当なものを、次の①～④のうちから一つ選べ。

29

- ① 典礼問題が原因となって、元代の中国でキリスト教布教が禁止された。
- ② 前の図が出版された都市では、ルター派を容認する和議が結ばれた。
- ③ 日米和親条約の締結によって、日本でのキリスト教布教が認められた。
- ④ プロテスタントの教えを広めるため、イエズス会が組織された。

問 6 前の文章中の空欄 **イ** に入れる人物の名として正しいものを、次の①～④のうちから一つ選べ。

30

- ① ゲーテンベルク
- ② コペルニクス
- ③ ダーウィン
- ④ ワット