

# 政治・経済

(解答番号  ~ )

第1問 次の文章を読み、後の問い(問1～8)に答えよ。(配点 26)

㉑ 国の法制度や㉒ 地方自治に関心がある生徒Xと生徒Yは、自分たちが住むJ市のまちづくりの取組みについて調べている。

かつて㉓ K寺の門前町として栄えたJ市には、多くの観光客が訪れており、K寺はJ市の重要な観光資源となっている。市の中心市街地は、駅からK寺へ至る表参道としての中央通りを中心に発展してきた。駅前には大型店舗が集まり、表参道には個人商店が軒を並べている。また、K寺の門前には㉔ 空き家などをリノベーションした店舗やカフェが多数立地し、㉕ 地元の農産物を加工した食品を販売している。

生徒たちがJ市のWebページを調べたところ、市が「市街地活性化プラン」を策定し、次のような事業を展開していることがわかった。

空き家等活用事業	空き家等を活用し、店舗やカフェ、民泊などの施設として利用する場合に、改修費や設備費を補助するとともに、長期的な安定経営をめざし、経営指導員による継続的指導を行う。
歴史的街なみ整備事業	K寺周辺地区の歴史ある街なみを保全し、伝統と文化が感じられる景観を形成することを目的に、まちづくり協定で規定する範囲の景観の整備に対する助成を行うとともに、道路の美化を進める。

生徒たちはとくに空き家などの活用に関心をもち、空き家や㉖ 民泊に関する㉗ 法律についても、㉘ 立法過程を含め、調べてみることにした。

- 問 1 下線部④に関連して、生徒 X は、図書館で資料調査をする中で、国家権力のあり方に関するある思想家の著作に次のような記述があることを発見した。この記述から読みとれる内容として最も適当なものを、後の①～④のうちから一つ選べ。なお、一部表記を改めた箇所やふりがなを振った箇所がある。

1

省略

- ① 権力を恣意的に行使する統治に対する革命権の重要性を説いている。
- ② 権力を分立することにより公民の自由が保護されると説いている。
- ③ 権力をもつ者が権力を濫用するのではなく公民の自由を保護する傾向にあることを前提としている。
- ④ 権力をもつ者が人民から自然権を譲渡された絶対的な存在であることを前提としている。

## 政治・経済

- 問 2 下線部①に関連して、生徒 Y は、日本国憲法が保障している地方自治について調べ、次の文章のようにまとめた。文章中の空欄 **ア** ~ **ウ** に当てはまる語句の組合せとして最も適当なものを、後の①~⑧のうちから一つ選べ。
- 2**

日本国憲法第 92 条は、「地方公共団体の組織及び運営に関する事項は、地方自治の本旨に基いて、法律でこれを定める」としている。ここでいう地方自治の本旨は、団体自治と住民自治の原理で構成される。団体自治は、国から自立した団体が設立され、そこに十分な自治権が保障されなければならないとする **ア** 的要請を意味するものである。住民自治は、地域社会の政治が住民の意思に基づいて行われなければならないとする **イ** 的要請を意味するものである。国から地方公共団体への権限や財源の移譲、そして国の地方公共団体に対する関与を法律で限定することなどは、直接的には **ウ** の強化を意味するものといえることができる。

- |   |   |    |   |      |   |      |
|---|---|----|---|------|---|------|
| ① | ア | 集権 | イ | 自由主義 | ウ | 住民自治 |
| ② | ア | 集権 | イ | 自由主義 | ウ | 団体自治 |
| ③ | ア | 集権 | イ | 民主主義 | ウ | 住民自治 |
| ④ | ア | 集権 | イ | 民主主義 | ウ | 団体自治 |
| ⑤ | ア | 分権 | イ | 自由主義 | ウ | 住民自治 |
| ⑥ | ア | 分権 | イ | 自由主義 | ウ | 団体自治 |
| ⑦ | ア | 分権 | イ | 民主主義 | ウ | 住民自治 |
| ⑧ | ア | 分権 | イ | 民主主義 | ウ | 団体自治 |

問 3 下線部◎に関連して、J市とK寺のかかわり合いに関心がある生徒Yは、  
「政治・経済」の授業で学習した政教分離原則のことを思い出し、政教分離原則  
に関する最高裁判所の判例について調べてみた。最高裁判所の判例に関する次  
の記述ア～ウのうち、正しいものはどれか。当てはまる記述をすべて選び、そ  
の組合せとして最も適当なものを、後の①～⑦のうちから一つ選べ。 3

ア 津地鎮祭訴訟の最高裁判決では、市が体育館の起工に際して神社神道固有  
の祭式にのっとり地鎮祭を行ったことは、憲法が禁止する宗教的活動にあた  
るとされた。

イ 愛媛玉ぐし料訴訟の最高裁判決では、県が神社に対して公金から玉ぐし料  
を支出したことは、憲法が禁止する公金の支出にあたりとされた。

ウ そらちぶと空知太神社訴訟の最高裁判決では、市が神社に市有地を無償で使用させて  
いたことは、憲法が禁止する宗教団体に対する特権の付与にあたりとされ  
た。

- ① ア
- ② イ
- ③ ウ
- ④ アとイ
- ⑤ アとウ
- ⑥ イとウ
- ⑦ アとイとウ

## 政治・経済

問 4 下線部㉑について、生徒Xは、国土交通省のWebページで「空家等対策の推進に関する特別措置法」(以下、「空家法」という)の内容を調べ、次のメモを作成した。Xは生徒Yと、メモをみながら後の会話をしている。後の会話文中の空欄 **ア** ・ **イ** に当てはまる語句の組合せとして最も適当なものを、後の①～⑥のうちから一つ選べ。 **4**

1. 「空家等」(空家法第2条第1項)
  - ・ 建築物やそれに附属する工作物で居住等のために使用されていないことが常態であるもの、および、その敷地。
2. 「特定空家等」: 次の状態にある空家等(空家法第2条第2項)
  - (a) 倒壊等著しく保安上危険となるおそれのある状態
  - (b) 著しく衛生上有害となるおそれのある状態
  - (c) 適切な管理が行われないことにより著しく景観を損なっている状態
  - (d) その他周辺の生活環境の保全を図るために放置することが不適切である状態
3. 特定空家等に対する措置(空家法第14条)
  - ・ 特定空家等の所有者等に対しては、市町村長は、特定空家等を取り除いたり、修繕したりするなど、必要な措置をとるよう助言や指導、勧告、命令をすることができる。
  - ・ 上記(a)または(b)の状態にない特定空家等については、建築物を取り除くよう助言や指導、勧告、命令をすることはできない。

X：空家法によると，市町村長は，所有者に対し建築物を取り除くよう命令し，従わない場合は代わりに建築物を取り除くこともできるみたいだよ。

Y：そうなんだ。でも，市町村長が勝手に私人の所有する建築物を取り除いてしまってもよいのかな。

X：所有権といえども，絶対的なものとはいえないよ。日本国憲法第 29 条でも，財産権の内容は「**ア**」に適合するように法律で定められるものとされているね。空家法は所有権を尊重して，所有者に対し必要な措置をとるよう助言や指導，それから勧告をすることを原則としているし，建築物を取り除くよう命令できる場合を限定もしているよ。でも，空家法が定めているように，**イ**には，所有者は，建築物を取り除かれることになっても仕方ないんじゃないかな。

Y：所有権には所有物を適切に管理する責任が伴うということだね。

- |   |   |       |   |                       |
|---|---|-------|---|-----------------------|
| ① | ア | 公共の福祉 | イ | 周辺住民の生命や身体に対する危険がある場合 |
| ② | ア | 公共の福祉 | イ | 周辺の景観を著しく損なっている場合     |
| ③ | ア | 公共の福祉 | イ | 土地の有効利用のための必要性がある場合   |
| ④ | ア | 公序良俗  | イ | 周辺住民の生命や身体に対する危険がある場合 |
| ⑤ | ア | 公序良俗  | イ | 周辺の景観を著しく損なっている場合     |
| ⑥ | ア | 公序良俗  | イ | 土地の有効利用のための必要性がある場合   |

## 政治・経済

問 5 下線部㉔に関心をもった生徒Yは、日本の農業に関する法制度の変遷について調べ、次の表を作成した。表中の空欄 **ア** ~ **エ** には、後の記述 ①~④のいずれかが入る。表中の空欄 **ウ** に当てはまる記述として最も適当なものを、後の①~④のうちから一つ選べ。 **5**

1952年	農地法の制定〔内容： <b>ア</b> 〕
1961年	農業基本法の制定〔内容： <b>イ</b> 〕
⋮	⋮
1995年	食糧管理制度廃止
1999年	食料・農業・農村基本法の制定〔内容： <b>ウ</b> 〕
2009年	農地法の改正〔内容： <b>エ</b> 〕
⋮	⋮

- ① 農業と工業の生産性の格差を縮小するため、米作から畜産や果樹などへの農業生産の選択的拡大がめざされることになった。
- ② 国民生活の安定向上のため、食料の安定供給の確保や農業の多面的機能の発揮がめざされることになった。
- ③ 地主制の復活を防止するため、農地の所有、賃貸、販売に対して厳しい規制が設けられた。
- ④ 農地の有効利用を促進するため、一般法人による農地の賃貸借に対する規制が緩和された。

問 6 下線部①について、生徒Xと生徒Yは次のような会話をしている。次の会話文中の空欄  ・  に当てはまる語句の組合せとして最も適当なものを、後の①～④のうちから一つ選べ。

X：住宅宿泊事業法が制定されて、住宅を宿泊事業に用いる民泊が解禁されたと聞いたけど、うちのJ市も空き家を活用した民泊を推進しているらしいね。でも、同じく宿泊施設であるホテルや旅館の経営者の一部からは、経営への悪影響を懸念して規制をすべきという声も出ているらしいよ。

Y： を支持する考えからすれば、民泊がたくさんできると、利用者の選択肢が増え利便性が上がるだろうし、将来的には観光客の増加と地域経済の活性化につながって、いいことなんだけどね。

X：問題もあるんだよ。たとえば、閑静な住宅街やマンションの中に民泊ができれば、夜間の騒音とか、周辺住民とトラブルが生じることがあるよね。彼らの生活環境を守るための対策が必要じゃないかな。

Y：民泊の営業中に実際に周囲に迷惑をかけているなら個別に対処しなければならぬね。でも、自身の所有する住宅で民泊を営むこと自体は財産権や営業の自由にかかわることだし、利用者の選択肢を狭めてはいけぬね。だから、住宅所有者が民泊事業に新たに参入することを制限するのはだめだよ。その意味で、 ことには反対だよ。

- ① ア 規制強化  
イ 住宅街において民泊事業を始めることを地方議会が条例で禁止する
- ② ア 規制強化  
イ 夜間の激しい騒音を改善するよう民泊事業者に行政が命令する
- ③ ア 規制緩和  
イ 住宅街において民泊事業を始めることを地方議会が条例で禁止する
- ④ ア 規制緩和  
イ 夜間の激しい騒音を改善するよう民泊事業者に行政が命令する



## 政治・経済

問 7 下線部㉔について、生徒Xと生徒Yは、さらに民泊に関連する法律の内容を調べた上で、次のような会話をしている。次の会話文中の空欄  ~  に当てはまる語句の組合せとして正しいものを、後の①~⑧のうちから一つ選べ。

X：調べてみたら民泊を営むにも利用するにもいろんな法律がかかわるんだね。

Y：そうだね。まず民泊の解禁を定めた住宅宿泊事業法があるけど、ほかにも、利用料金を支払って民泊を利用する契約には  が適用されるね。ちなみに、私人間の関係を規律する  は、公法か私法かという分類からすれば  に該当するね。

X：また、民泊を営業する人は事業者だから、不当な勧誘による契約の取消しを可能にしたり、消費者に一方的に不利な条項の無効を定めたりする  も関連するよ。

Y：一つの事項についてもさまざまな法律が重層的にかかわることが確認できたね。

- ① ア 民法    イ 私法    ウ 消費者契約法
- ② ア 民法    イ 私法    ウ 独占禁止法
- ③ ア 民法    イ 公法    ウ 消費者契約法
- ④ ア 民法    イ 公法    ウ 独占禁止法
- ⑤ ア 刑法    イ 私法    ウ 消費者契約法
- ⑥ ア 刑法    イ 私法    ウ 独占禁止法
- ⑦ ア 刑法    イ 公法    ウ 消費者契約法
- ⑧ ア 刑法    イ 公法    ウ 独占禁止法

問 8 下線部①について、生徒 X は、「政治・経済」の教科書を読み、日本の立法過程について整理した。日本の立法過程に関する記述として誤っているものを、次の①～④のうちから一つ選べ。 

8
---

- ① 国会議員が予算を伴わない法律案を発議するには、衆議院では議員 20 人以上、参議院では議員 10 人以上の賛成を要する。
- ② 法律案が提出されると、原則として、関係する委員会に付託され委員会の審議を経てから本会議で審議されることになる。
- ③ 参議院が衆議院の可決した法律案を受け取った後、60 日以内に議決をしないときは、衆議院の議決が国会の議決となる。
- ④ 国会で可決された法律には、すべて主任の国务大臣が署名し、内閣総理大臣が連署することを必要とする。

## 政治・経済

**第2問** 生徒たちは、次の白板にまとめた授業の内容をもとに、経済主体の関係について考察や分析を行った。これに関連して、後の問い(問1～8)に答えよ。

(配点 26)

1. 【経済主体の関係】 家計(消費者), ①企業, 政府の②関係図の例  
例: 政府と企業の関係図


政府 ←-----→ 企業  
実線の矢印: モノ・カネなどの流れ  
点線の矢印: ③土地開発への規制などの「行為(～する)」

注意: 基本的な関係図は, これらに家計を加えた三つの主体から構成される

2. 【関係図の書き方】 <許認可の例: 建設業> <建設業の事業例: ④災害復旧>

政府 ← 税の納付 → 企業  
許認可・指導をする  
⑤融資  
⑥経営能力  
業種ごとの技術力  
財政的基礎

日本銀行 ← ⑦金融政策 → 市中銀行



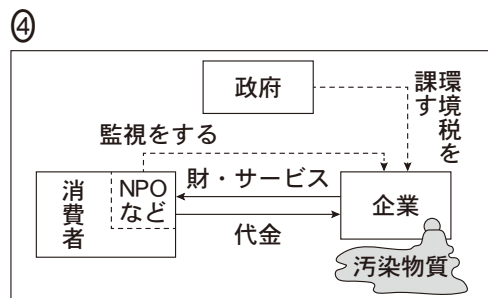
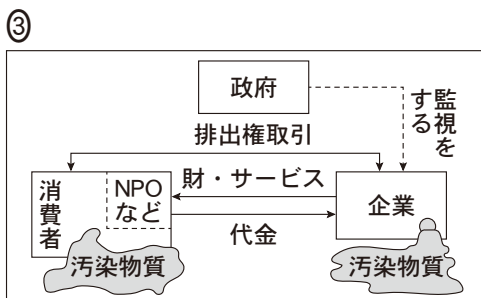
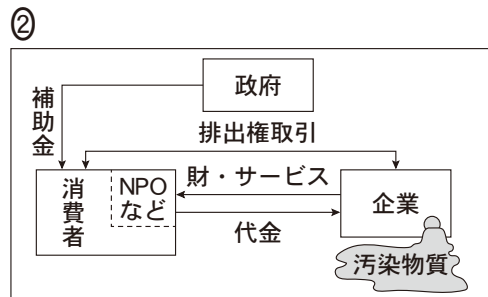
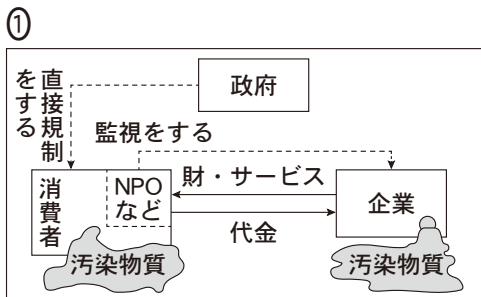
3. 【関係図の応用】 ⑧物価や貿易の面に広げて2か国以上で分析するなど

問1 日本における下線部①に関する記述として最も適当なものを, 次の①～④のうちから一つ選べ。 9

- ① 自社の株価の低下を招くような社内での行為をその会社の株主が監視することを, リストラクチャリングという。
- ② ある企業の1年間の利潤のうち, 株主への分配率が上昇すると内部留保への配分率も上昇し, 企業は設備投資を増やすようになる。
- ③ 世界的に拡大した感染症による経済的影響として, いわゆる巣ごもり需要の増加に対応することで2020年に売上を伸ばした企業があった。
- ④ 1990年代のバブル経済崩壊後, 会社法が制定され, 株式会社設立のための最低資本金額が引き上げられた。

問 2 下線部①に関連して、生徒Xと生徒Yは、白板における関係図の書き方を参考に話し合いを行い、自主学習として環境問題を関連させた経済主体の関係図を作成した。たとえば、次の会話文中の下線部の内容は、後の関係図中の消費者と企業間の矢印(←→)に対応している。会話の内容と整合する関係図として最も適当なものを、後の①～④のうちから一つ選べ。 10

- X：企業の工場から汚染物質が排出されるような図を考えればいいかな。  
 Y：それもあるけど、需要側の消費者が供給側の企業と、市場で財・サービスを取引するから生産が行われるわけで、需要側にも問題があると思うよ。  
 X：そうだね。でも、両方を書くと問題の焦点がわかりにくくなるし、今回の学習では、需要側からの汚染物質の問題は省いて、供給側からの汚染物質の排出と供給側への政府の対策を作図するってことでいいんじゃないかな。政府が供給側を対象に対策をしたというニュースもあったよね。  
 Y：いいね。私もみたよ。あと、その矢印のそばに書く語句はニュースに近いものを書くといいかもね。政策の目的も考慮されやすい語句がいいかな。  
 X：うん。加えて、市民で構成されるNPOなどによる、供給側への監視も大事になってくるんじゃないかな。



## 政治・経済

問 3 下線部㉔に関連して、生徒 X は、クラスでの発表において、企業の土地利用を事例にして、機会費用の考え方とその適用例をまとめることにした。X が作成した、次のメモ中の空欄 **ア** ・ **イ** に当てはまる語句として最も適当なものを、後の①～④のうちから一つ選べ。 **11**

◇機会費用の考え方：ある選択肢を選んだとき、もし他の選択肢を選んでいたら得られたであろう利益のうち、最大のもの。

◇事例の内容と条件：ある限られた土地を公園、駐車場、宅地のいずれかとして利用する。利用によって企業が得る利益は、駐車場が最も大きく、次いで公園、宅地の順である。なお、各利用形態の整備費用は考慮しない。

◇機会費用の考え方の適用例：ある土地をすべて駐車場として利用した場合、**ア** の関係から他の用途に利用できないため、そのときの機会費用は、**イ** を選択したときの利益に等しい。

- |   |   |           |   |    |
|---|---|-----------|---|----|
| ① | ア | トレード・オフ   | イ | 公園 |
| ② | ア | トレード・オフ   | イ | 宅地 |
| ③ | ア | ポリシー・ミックス | イ | 公園 |
| ④ | ア | ポリシー・ミックス | イ | 宅地 |

問 4 下線部㉑に関連して、生徒Xと生徒Yは、日本銀行による金融政策の主な手段である公開市場操作(オープン・マーケット・オペレーション)について話し合った。次の会話文中の空欄  ・  に当てはまる語句の組合せとして最も適当なものを、後の①～④のうちから一つ選べ。

X：日本銀行は、買いオペレーションや売りオペレーションによって、個人や一般企業が保有する通貨量を変動させているようだね。

Y：そうかな？ たしかに、買いオペは金融  の効果が期待できると言われているけど、日本銀行が市中銀行から国債を買い入れると、確実に増加するのは市中銀行が保有する日銀当座預金の残高だね。

X：それは個人や一般企業が保有する通貨量、つまり  が増加すると考えてよいのかな。

Y： が増加するかどうかは、個人や一般企業の資金需要と市中銀行の貸出が増加するかどうかによるよ。

X：それなら、日本銀行の公開市場操作は  を直接的に増減させるものではないということだね。

- ① ア 緩和    イ マネーストック
- ② ア 緩和    イ マネタリーベース
- ③ ア 引締    イ マネーストック
- ④ ア 引締    イ マネタリーベース

## 政治・経済

問 5 下線部㉔に関連して、生徒たちは、次の図1と図2を用いて市中銀行の貸出業務を学習することになった。これらの図は、すべての市中銀行の資産、負債、純資産を一つにまとめた上で、貸出前と貸出後を比較したものである。これらの図から読みとれる内容を示した後のメモを踏まえて、市中銀行の貸出業務に関する記述として最も適当なものを、後の①～④のうちから一つ選べ。

13

資産		負債・純資産	
「すでにある貸出」 85	「すでにある預金」 90	「新規の貸出」20	「新規の預金」20
日銀当座預金 15	資本金 10	「すでにある貸出」 85	「すでにある預金」 90
		日銀当座預金 15	資本金 10

図1 貸出前のバランスシート

図2 貸出後のバランスシート

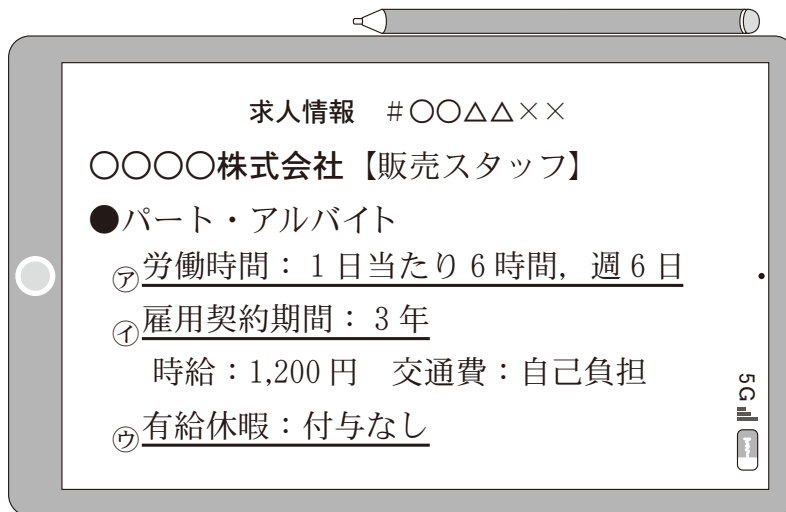
(注) バランスシートの左側には「資産」が、右側には「負債・純資産」が表され、「資産」と「負債・純資産」の金額は一致する。簡略化のため、市中銀行の資産は貸出および日銀当座預金、負債は預金、純資産は資本金のみとし、また貨幣単位は省略する。

メモ 個人や一般企業が銀行から借り入れると、市中銀行は「新規の貸出」に対応した「新規の預金」を設定し、借り手の預金が増加する。他方で、借り手が銀行に返済すると、市中銀行の貸出と借り手の預金が同時に減少する。

- ① 市中銀行は「すでにある預金」を個人や一般企業に貸し出すため、銀行貸出は市中銀行の資産を増加させ負債を減少させる。
- ② 市中銀行は「すでにある預金」を個人や一般企業に貸し出すため、銀行貸出は市中銀行の資産を減少させ負債を増加させる。
- ③ 市中銀行は「新規の預金」を創り出すことによって個人や一般企業に貸し出すので、銀行貸出は市中銀行の資産と負債を減少させる。
- ④ 市中銀行は「新規の預金」を創り出すことによって個人や一般企業に貸し出すので、銀行貸出は市中銀行の資産と負債を増加させる。

問 6 下線部①に関連して、生徒たちは労働問題について学ぶため、事前学習として、次の図のような求人情報の例を作成し、問題点がないか話し合った。図中の下線部ア～ウについて、企業がこの求人情報のとおり労働者と労働契約を結んだ場合、雇用に関係する日本の法律に抵触するものはどれか。当てはまるものをすべて選び、その組合せとして最も適当なものを、後の①～⑦のうちから一つ選べ。

14



- ① ア
- ② イ
- ③ ウ
- ④ アとイ
- ⑤ アとウ
- ⑥ イとウ
- ⑦ アとイとウ



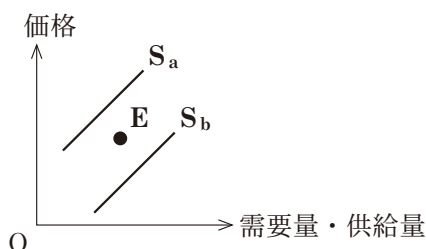
## 政治・経済

問 7 下線部㉔に関連して、生徒 X と生徒 Y は災害の影響に関する次の会話をしている。

X：この間の災害で被害を受けた地場産品の野菜の価格が上がって困っているよ。おいしいから毎日必ず食べてたんだ。復旧のめどはたっただしいけど、元に戻るには時間がかかるらしくて。早く元に戻って欲しくないかな。

Y：この図をみてよ。災害前は右下がりの需要曲線と右上がりの供給曲線が E 点で交わっていたと仮定すると、災害の影響で供給曲線が図の元の位置から一時的にこんな位置に変わった状況だね。ということは、需要曲線が災害前の位置のままとして、供給曲線が元の位置に自然に戻るまでの間に **ア** といったような対策がとられれば、より早く元の価格に戻っていくんじゃないかな。

図

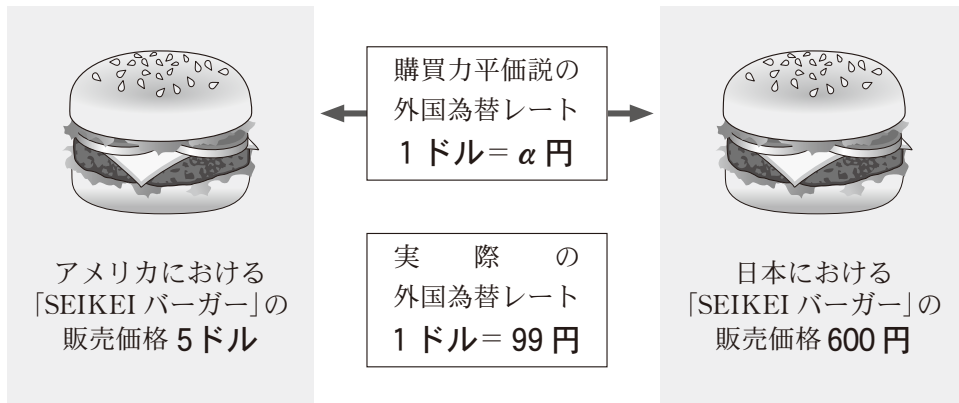


X の発言に対し、Y は災害後の供給曲線を図中の  $S_a$  線か  $S_b$  線のいずれかと推測し、二重下線部( )を実現するための E 点までの調整方策を会話文中の空欄 **ア** で述べている。**ア** に当てはまる発言として最も適当なものを、次の①～④のうちから一つ選べ。 **15**

- ① 野菜の購入時にキャッシュレス決済で使える電子ポイントを付与する
- ② 野菜の購入量が増えるように消費者に宣伝を行う
- ③ 原材料の購入に使える助成金を生産者に支給する
- ④ 原材料の使用量に応じて課徴金を課す

問 8 下線部①に関連して、生徒たちは、次の図と図に関する説明を用いて、各国の物価水準の比率から外国為替レートを理論的に求める購買力平価説を学んだ。この説に基づいて算出される外国為替レート(1ドル= $\alpha$ 円)を基準として考えると、20××年○月△日における実際の外国為替レートの状態を表す記述として正しいものを、後の①～④のうちから一つ選べ。 16

図



## 【図に関する説明】

- ・両国で販売されている「SEIKEI バーガー」はまったく同じ商品であり、それぞれの販売価格は、同一年月日(20××年○月△日)のもので時差は考えない。
- ・両国の物価水準は「SEIKEI バーガー」の販売価格でそれぞれ代表される。

- ① 実際の外国為替レートは、1ドル当たり120円の円安ドル高である。
- ② 実際の外国為替レートは、1ドル当たり120円の円高ドル安である。
- ③ 実際の外国為替レートは、1ドル当たり21円の円安ドル高である。
- ④ 実際の外国為替レートは、1ドル当たり21円の円高ドル安である。

第3問 次に示したのは、生徒たちが最近読んだある日の新聞の1面である。傍線部①～⑥は、それぞれの見出しやコラムを示している。これに関連して、後の問い(問1～8)に答えよ。(配点 26)

<p>⑧ 新興国通貨に不安定化の兆し</p> <hr/> <hr/> <hr/> <hr/> <hr/>	<h3>世界経済落ち込み深刻</h3> <p>迫られる景気悪化への対応</p> <p>① 家計への打撃を懸念</p> <p>② 雇用環境の大幅悪化</p> <p>③ 遠のく物価上昇</p> <hr/> <hr/> <hr/> <hr/>	<h2>共通新聞</h2> <p>1997年(平成29年) 11月12日 創刊 発行所 〒〇〇〇〇〇〇 〇〇市〇〇区〇〇番地 電話 (000) 000-0000 電報 〇〇〇-〇〇〇〇 編集 〇〇〇-〇〇〇〇 販売 〇〇〇-〇〇〇〇 広告 〇〇〇-〇〇〇〇</p> <p>2022年(令和4年) 〇〇月〇〇日(土) 天</p> <table border="0"><tr><td>札幌</td><td>●</td></tr><tr><td>仙台</td><td>●</td></tr><tr><td>東京</td><td>●</td></tr><tr><td>名古屋</td><td>●</td></tr><tr><td>大阪</td><td>●</td></tr><tr><td>福岡</td><td>●</td></tr><tr><td>広島</td><td>●</td></tr><tr><td>岡山</td><td>●</td></tr><tr><td>鹿児島</td><td>●</td></tr><tr><td>那覇</td><td>●</td></tr></table>	札幌	●	仙台	●	東京	●	名古屋	●	大阪	●	福岡	●	広島	●	岡山	●	鹿児島	●	那覇	●
札幌	●																					
仙台	●																					
東京	●																					
名古屋	●																					
大阪	●																					
福岡	●																					
広島	●																					
岡山	●																					
鹿児島	●																					
那覇	●																					
<p>先進国・発展途上国の協調が必要</p> <p>④ 国際機関の役割の重要性増す</p> <hr/> <hr/> <hr/> <hr/> <hr/>	<p>⑤ 予算審議始まる</p> <p>⑥ 税制改革関連法案は年度内成立へ</p> <hr/> <hr/> <hr/> <hr/> <hr/>	<p>今日のコラム「⑦ 経済連携」</p> <hr/> <hr/> <hr/> <hr/> <hr/>																				

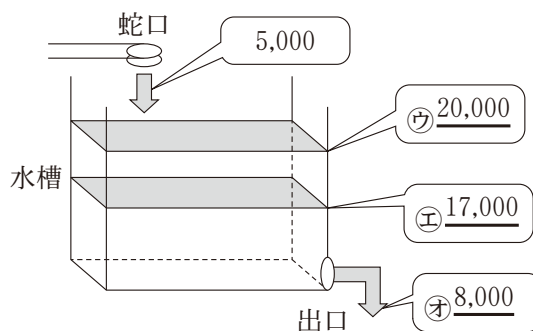
問 1 傍線部②に関連して、生徒Xは、次のXの小遣い帳(2019年11月)をもとに1か月のお金の動きを、後の水槽を使った模式図で表すことにした。Xは、この1か月間について、お金が流れる方向を矢印に、お金の量を水量に見立て、蛇口から水槽に水が入り、出口から出ていく模式図を作成した。小遣い帳と模式図中の下線部㉗~㉜の五つの量をフローとストックに分類したとき、フローであるものをすべて選び、その組合せとして正しいものを、後の①~⑧のうちから一つ選べ。

17

小遣い帳

日付	事柄	収入	支出	残高
2019/11/1	前月からの繰越			¥20,000
11/1	小遣い	㉗ <u>¥5,000</u>		¥25,000
11/9	部活動後の飲食		¥500	¥24,500
11/16	文化祭での飲食等		¥1,500	¥23,000
11/22	両親へのプレゼント (結婚記念日)		㉘ <u>¥5,000</u>	¥18,000
11/24	友達と食事		¥1,000	¥17,000
11/30	次月への繰越			¥17,000

模式図



- ① ㉗と㉘      ② ㉗と㉙      ③ ㉘と㉜      ④ ㉙と㉚  
 ⑤ ㉗と㉘と㉜      ⑥ ㉗と㉙と㉚      ⑦ ㉘と㉚と㉜      ⑧ ㉙と㉚と㉜

## 政治・経済

問 2 傍線部①に関連して、生徒 Y は、日本の失業について詳しく知りたいと考え、「労働力調査」の「用語の定義」から 15 歳以上人口の分類を調べ、次の資料にまとめた。その上で、Y はある月の月末 1 週間の状況として、後の A ~ C の 3 人のモデルケースを作成し、3 人の就業状態を分類した。資料中の空欄 **ア** に入る語句と空欄 **イ** に入る分類の図の組合せとして正しいものを、後の①~⑧のうちから一つ選べ。 **18**

資料

● 15 歳以上人口は、労働力人口と非労働力人口からなる。  
→この 15 歳以上人口は、生産年齢人口と **ア**。

● 労働力人口は、就業者と完全失業者からなる。(調査週間は月末 1 週間)

○ 就業者は、従業者と休業者からなる。

- ・ 従業者は、収入を伴う仕事を 1 時間以上した者。
- ・ 休業者は、仕事をもちながら、調査週間中に少しも仕事をしなかったものの、賃金等の支払いを受けた者、または受けることになっている者。




○ 完全失業者は、次の三つの条件を満たす者。

- ・ 仕事がなく調査週間中に少しも仕事をしなかった。
- ・ 仕事があればすぐに就くことができる。
- ・ 調査週間中に、仕事を探す活動や事業を始める準備をしていた(過去の求職活動の結果を待っている場合を含む)。

➡ これらに従った 3 人のモデルケースの正しい分類は **イ** である。

※ 非労働力人口は、通学、家事、高齢などの理由で仕事をしていない者。

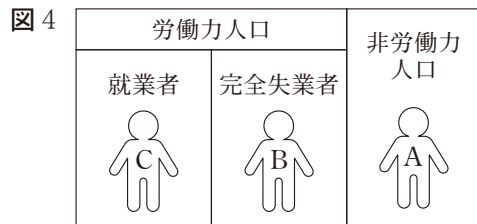
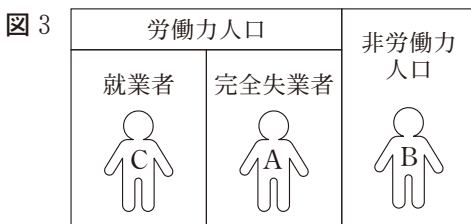
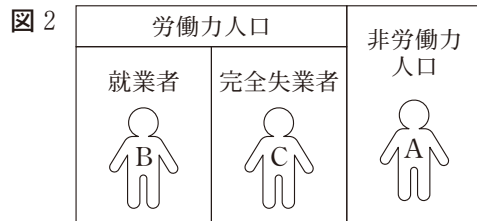
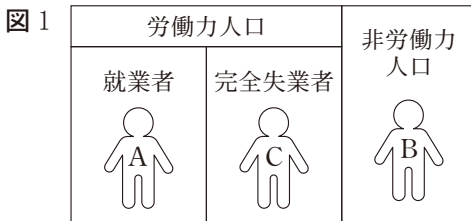
<モデルケース>

	職歴	なし。
	現状	大学生。アルバイトはしていない。アルバイトを始めたいと思い、アルバイトの求人情報を調べて応募した。
	職歴	大学卒業後に就職した会社を、キャリアアップを目的に退職した。
	現状	先月まで求職活動をしていたが、今月は調査週間中も含め資格取得の勉強に集中している。
	職歴	これまで勤めていた会社を、家庭の事情で退職した。
	現状	自宅近くで、フルタイムの仕事を希望して求職活動中だが、調査週間中に1日臨時の仕事を得た。

**ア** に入る語句

- a** 一致する    **b** 一致しない

**イ** に入る分類の図



- |   |      |        |   |      |        |
|---|------|--------|---|------|--------|
| ① | ア— a | イ— 図 1 | ② | ア— a | イ— 図 2 |
| ③ | ア— a | イ— 図 3 | ④ | ア— a | イ— 図 4 |
| ⑤ | ア— b | イ— 図 1 | ⑥ | ア— b | イ— 図 2 |
| ⑦ | ア— b | イ— 図 3 | ⑧ | ア— b | イ— 図 4 |

## 政治・経済

- 問 3 傍線部㉔に関連して、生徒Xは、物価の変動が国民生活に与える影響に関心をもち、その例として、インフレ(インフレーション)のケースについて調べ、次のメモにまとめた。メモ中の空欄 **ア** ~ **エ** に当てはまる語句の組合せとして正しいものを、後の①~⑧のうちから一つ選べ。 **19**

物価の変動は私たちの消費に影響を与える。私たちが買い物をするときを考え、名目の消費支出額を一定とする。すべての財・サービスの価格が同じ比率で変化したとすると、物価上昇前と比較して、物価上昇後に消費できる数量は **ア** することになる。

物価の変動は、債権者や債務者に対しても影響を及ぼす。ある一定額のお金の貸借が行われている状況を想定する。金利が変化しなかったとして、貸借が行われた時点では想定されていなかったインフレが発生した場合について考える。このとき、インフレが発生しなかった場合と比較すると、債権者にとって経済的に **イ** に、債務者にとって経済的に **ウ** になる。

これは、支払われる金額が事前に確定しており、その後インフレが進行した場合、この債権・債務の価値が実質的に **エ** することになるからである。

- |   |      |      |      |      |
|---|------|------|------|------|
| ① | ア 増加 | イ 有利 | ウ 不利 | エ 上昇 |
| ② | ア 増加 | イ 有利 | ウ 不利 | エ 下落 |
| ③ | ア 増加 | イ 不利 | ウ 有利 | エ 上昇 |
| ④ | ア 増加 | イ 不利 | ウ 有利 | エ 下落 |
| ⑤ | ア 減少 | イ 有利 | ウ 不利 | エ 上昇 |
| ⑥ | ア 減少 | イ 有利 | ウ 不利 | エ 下落 |
| ⑦ | ア 減少 | イ 不利 | ウ 有利 | エ 上昇 |
| ⑧ | ア 減少 | イ 不利 | ウ 有利 | エ 下落 |

問 4 傍線部㉑に関連して、日本の国会の活動に関心をもった生徒Yは、2020年における予算審議を中心に国会の活動を調べ、その一部を次の表にまとめた。

表中の空欄  ・  に当てはまる語句の組合せとして正しいものを、後の①～⑥のうちから一つ選べ。

1月20日	・ 常会(通常国会)の召集, 開会式 ・ <input type="text" value="ア"/> から予算の提出
1月～3月	・ 予算審議
3月27日	・ 予算の成立
4月27日	・ <input type="text" value="ア"/> から <input type="text" value="イ"/> の提出
4月30日	・ <input type="text" value="イ"/> の成立
6月8日	・ <input type="text" value="ア"/> から第2次 <input type="text" value="イ"/> の提出
6月12日	・ 第2次 <input type="text" value="イ"/> の成立
6月17日	・ 常会の会期終了

- ① ア 各省庁    イ 暫定予算  
 ② ア 各省庁    イ 補正予算  
 ③ ア 財務省    イ 暫定予算  
 ④ ア 財務省    イ 補正予算  
 ⑤ ア 内閣        イ 暫定予算  
 ⑥ ア 内閣        イ 補正予算



## 政治・経済

問 5 傍線部㉔に関連して、日本では、2019年に消費税率が10パーセントに引き上げられ、それと同時に、食料品(飲料などを含む)への8パーセントの軽減税率が導入された。そこで、生徒Xは、その際に話題となった消費税の逆進性について考えるために、次の表を作成して整理してみることにした。具体的には、可処分所得が300万円の個人A、500万円の個人B、800万円の個人Cの三つのタイプを考えて表を作成した。この表から読みとれる消費税の逆進性に関する記述として最も適当なものを、後の①～④のうちから一つ選べ。

21

項目		計算方法	個人A	個人B	個人C
ア	可処分所得(万円/年)		300	500	800
イ	税抜き消費支出(万円/年)	ウ + エ	270	350	520
ウ	うち食料品支出(万円/年)		100	120	150
エ	うち食料品以外の消費支出 (万円/年)		170	230	370
オ	消費支出割合(%)	イ ÷ ア × 100	90	70	65
カ	全ての消費支出に10%税率適用時の消費税負担額(万円/年)	イ × 10%	27	35	52
キ	食料品支出に8%税率、食料品以外の消費支出に10%税率適用時の消費税負担額(万円/年)	ウ × 8% + エ × 10%	25.0	32.6	49.0

- ① 可処分所得アが高い個人ほど、表中カの額が多く、消費税の逆進性の一例となっている。
- ② 可処分所得アが高い個人ほど、可処分所得に占める表中カの割合が低く、消費税の逆進性の一例となっている。
- ③ 可処分所得アが高い個人ほど、表中オの値が高く、消費税の逆進性の一例となっている。
- ④ 可処分所得アが高い個人ほど、可処分所得に占める表中キの割合が高く、消費税の逆進性の一例となっている。

問 6 傍線部①に関連して、生徒 X と生徒 Y は、国際連合に関連する国際機関について調べた。次の国際機関に関する記述ア～ウのうち、正しいものはどれか。当てはまる記述をすべて選び、その組合せとして最も適当なものを、後の①～⑦のうちから一つ選べ。 

22
----

ア WHO は、世界の人々の保健水準の向上や国際的な保健事業の推進に関する活動を行っている。

イ UNICEF は、発展途上国を中心に子どもの教育や権利保障に関する活動を行っている。

ウ UNHCR は、迫害や紛争などによって生じる難民の保護に関する活動を行っている。

- ① ア
- ② イ
- ③ ウ
- ④ アとイ
- ⑤ アとウ
- ⑥ イとウ
- ⑦ アとイとウ

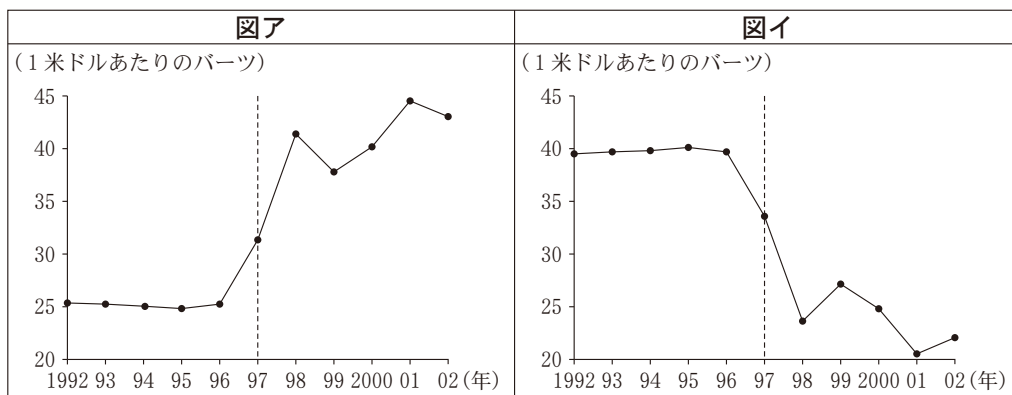
## 政治・経済

問 7 傍線部㉔に関連して、生徒たちは、アジア通貨危機の発端となったタイについて関心をもった。そこで、タイの通貨バーツと当時のタイの状況および通貨危機についての要点を、次のようにメモにまとめた。また、アジア通貨危機が起こった1997年の前後5年にあたる1992年から2002年のタイの外国為替レート(1米ドルあたりのバーツ)、経常収支、外貨準備の値を調べ、その推移を作図した。生徒たちが作成した図として適当なものを、外国為替レートについては後の図アか図イ、経常収支については後の図ウか図エ、外貨準備については後の図オか図カより選び、その組合せとして最も適当なものを、後の①～⑧のうちから一つ選べ。 23

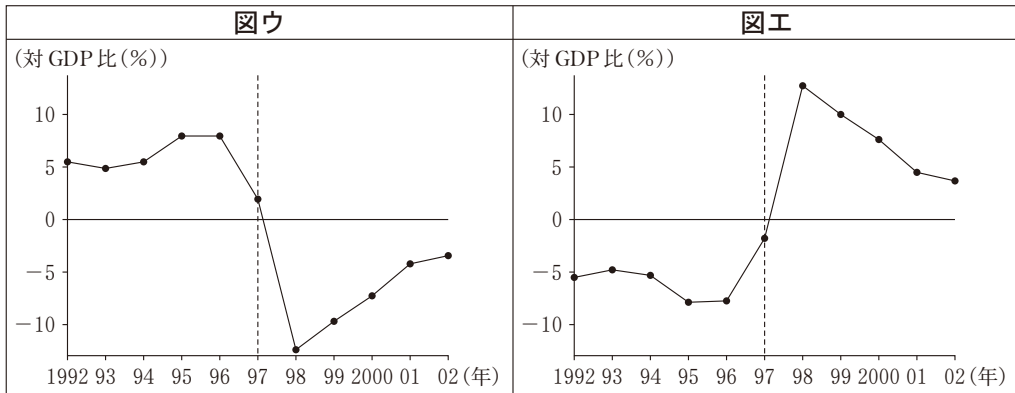
### メモ

- アジア通貨危機の前、タイのバーツも含めて、アジアの通貨の中には市場においてヘッジファンドなどによる売り圧力がかけられているものがあった。タイ政府は、通貨の下落を阻止するために、外貨準備を用いて買い支えようとしたが、結局は通貨危機に陥ってしまった。
- 経済基盤が脆弱で、経常収支赤字が継続している国は、通貨危機が起こりやすいといわれている。

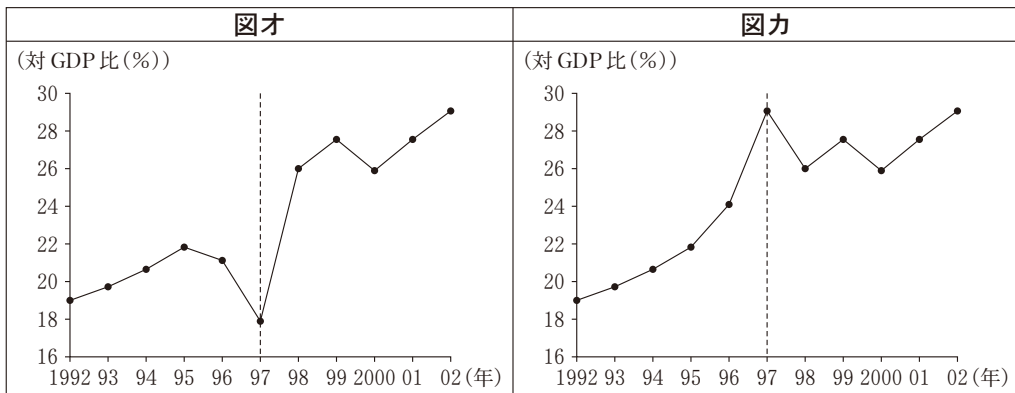
外国為替レート



経常収支



外貨準備



(出所) World Bank Web ページにより作成。

	外国為替レート	経常収支	外貨準備
①	図ア	図ウ	図オ
②	図ア	図ウ	図カ
③	図ア	図工	図オ
④	図ア	図工	図カ
⑤	図イ	図ウ	図オ
⑥	図イ	図ウ	図カ
⑦	図イ	図工	図オ
⑧	図イ	図工	図カ

## 政治・経済

問 8 生徒 X と生徒 Y が、授業後に傍線部①について議論した。次の会話文中の空欄  ・  に当てはまる語句の組合せとして最も適当なものを、後の①～④のうちから一つ選べ。

X：最近、世界のいろんな地域での経済連携についての話題が、ニュースで取り上げられることが多いね。

Y：そうだね。経済分野では最近、FTA(自由貿易協定)や EPA(経済連携協定)のような条約を結ぶ動きがみられるね。日本も 2018 年には、EU(欧州連合)との間に EPA を締結したし、 に参加したね。 は、アメリカが離脱した後に成立したものだよ。

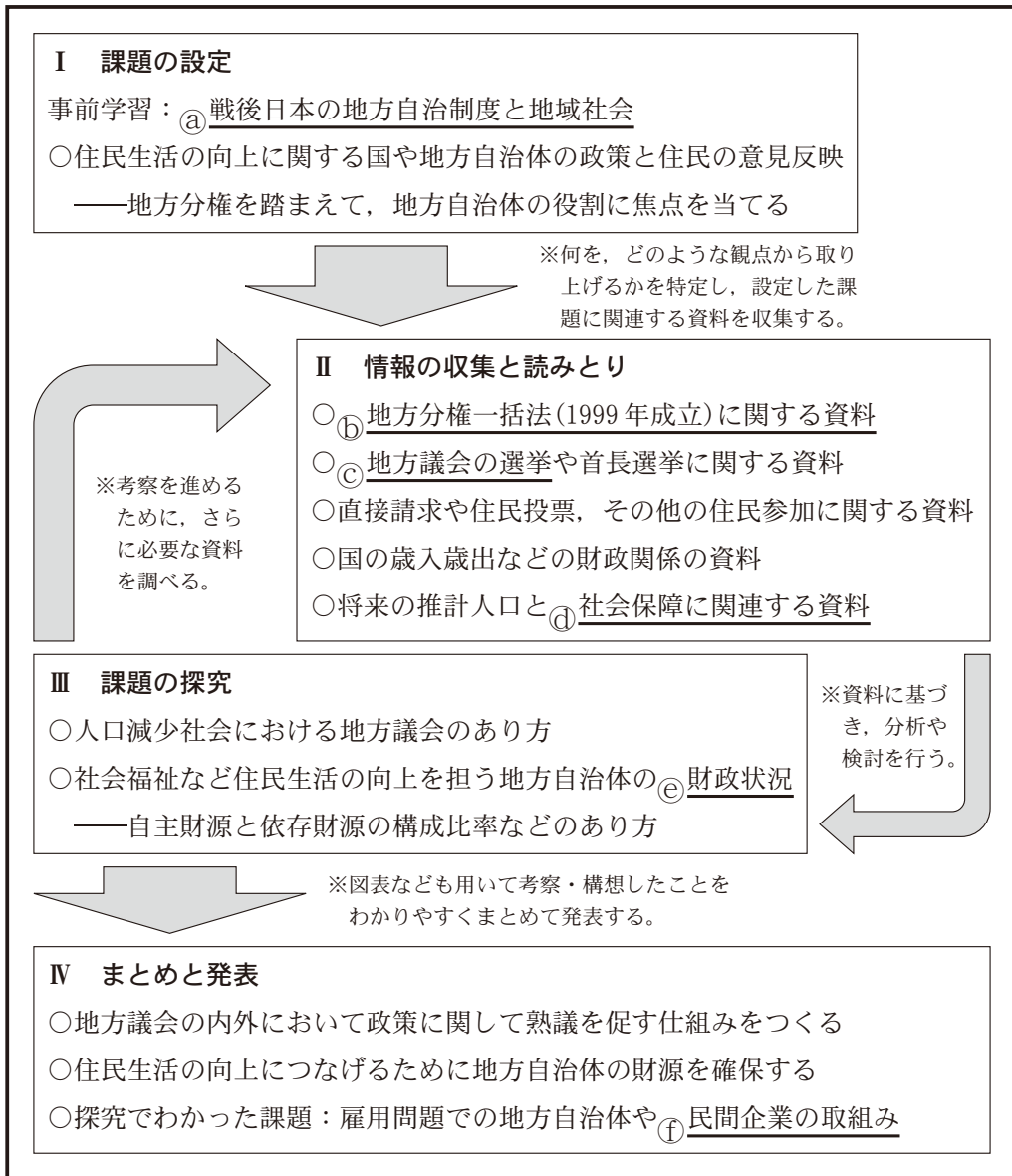
X：でも、このような動きは、WTO(世界貿易機関)を中心とする世界の多角的貿易体制をかえって損ねたりはしないかな。GATT(関税及び貿易に関する一般協定)は、ある締約国に貿易上有利な条件を与えた場合に他の締約国にもそれを適用する を定めているよ。このような仕組みを活用して、円滑な貿易を推進した方がいいような気がするなあ。

Y：本当にそうかな。FTA や EPA といったそれぞれの国や地域の実情に応じたきめの細かい仕組みを整えていくことは、結果として世界の自由貿易の促進につながると思うよ。これらは、WTO を中心とする世界の多角的貿易体制を補完するものと考えていいんじゃないかな。

- ①  TPP 11(環太平洋パートナーシップに関する包括的及び先進的な協定)  
 最恵国待遇原則
- ②  TPP 11(環太平洋パートナーシップに関する包括的及び先進的な協定)  
 内国民待遇原則
- ③  APEC(アジア太平洋経済協力会議)  
 最恵国待遇原則
- ④  APEC(アジア太平洋経済協力会議)  
 内国民待遇原則

## 政治・経済

**第4問** 生徒Xと生徒Yは、「住民生活の向上を目的とする国や地方自治体の政策に、住民はどのようにかかわることができるのか」という課題を設定して調査を行い、L市主催の報告会で発表することにした。次の図は、そのための調査発表計画を示したものである。これに関連して、後の問い(問1～6)に答えよ。(配点 22)



問 1 生徒 X と生徒 Y は下線部④について調べた。次の A ～ D は、第二次世界大戦後の日本の地方自治をめぐって起きた出来事に関する記述である。これらの出来事を古い順に並べたとき、3 番目にくるものとして正しいものを、後の①～④のうちから一つ選べ。 25

- A 地方分権改革が進む中で行財政の効率化などを図るために市町村合併が推進され、市町村の数が減少し、初めて 1,700 台になった。
- B 公害が深刻化し住民運動が活発になったことなどを背景として、東京都をはじめとして都市部を中心に日本社会党や日本共産党などの支援を受けた候補者が首長に当選し、革新自治体が誕生した。
- C 地方自治の本旨に基づき地方自治体の組織や運営に関する事項を定めるために地方自治法が制定され、住民が知事を選挙で直接選出できることが定められた。
- D 大都市地域特別区設置法に基づいて、政令指定都市である大阪市を廃止して新たに特別区を設置することの賛否を問う住民投票が複数回実施された。

- ① A
- ② B
- ③ C
- ④ D

## 政治・経済

問 2 生徒Xと生徒Yは、下線部①をみながら会話をしている。次の会話文中の空欄 **ア** ~ **ウ** に当てはまる語句の組合せとして最も適当なものを、後の①~⑧のうちから一つ選べ。 **26**

X：この時の地方分権改革で、国と地方自治体の関係を **ア** の関係としたんだね。

Y：**ア** の関係にするため、機関委任事務制度の廃止が行われたんだよね。たとえば、都市計画の決定は、**イ** とされたんだよね。

X：**ア** の関係だとして、地方自治体に対する国の関与をめぐる、国と地方自治体の考え方が対立することはないのかな。

Y：実際あるんだよ。新聞で読んでけど、地方自治法上の国の関与について不服があるとき、地方自治体は **ウ** に審査の申出ができるよ。申出があったら **ウ** が審査し、国の機関に勧告することもあるんだって。ふるさと納税制度をめぐる対立でも利用されたよ。

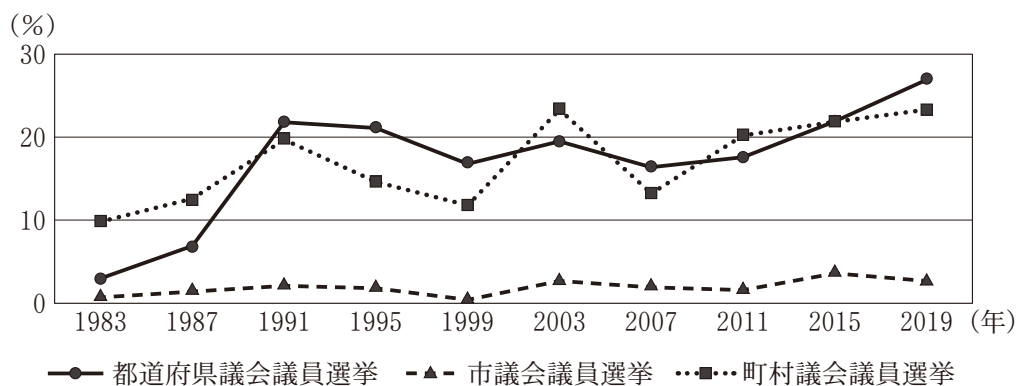
- |   |         |          |              |
|---|---------|----------|--------------|
| ① | ア 対等・協力 | イ 法定受託事務 | ウ 国地方係争処理委員会 |
| ② | ア 対等・協力 | イ 法定受託事務 | ウ 地方裁判所      |
| ③ | ア 対等・協力 | イ 自治事務   | ウ 国地方係争処理委員会 |
| ④ | ア 対等・協力 | イ 自治事務   | ウ 地方裁判所      |
| ⑤ | ア 上下・主従 | イ 法定受託事務 | ウ 国地方係争処理委員会 |
| ⑥ | ア 上下・主従 | イ 法定受託事務 | ウ 地方裁判所      |
| ⑦ | ア 上下・主従 | イ 自治事務   | ウ 国地方係争処理委員会 |
| ⑧ | ア 上下・主従 | イ 自治事務   | ウ 地方裁判所      |



## 政治・経済

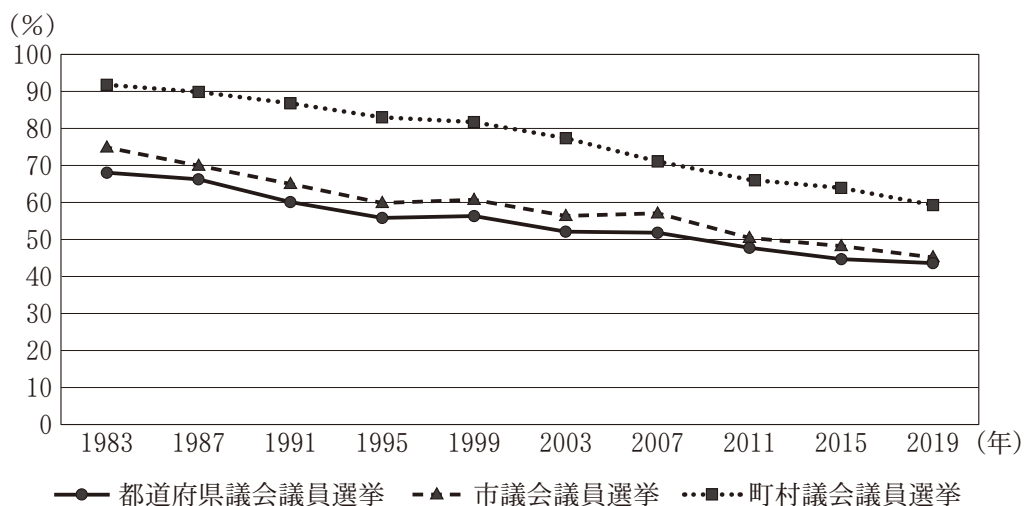
問 3 生徒 X と生徒 Y は下線部㉔について、次の資料 a と資料 b を読みとった上で議論している。資料 a と資料 b のグラフの縦軸は、統一地方選挙における投票率か、統一地方選挙における改選定数に占める無投票当選者数の割合のどちらかを示している。後の会話文中の空欄 **ア** ~ **エ** に当てはまる語句の組合せとして最も適当なものを、後の①~⑧のうちから一つ選べ。 **27**

資料 a



(出所) 総務省 Web ページにより作成。

資料 b



(出所) 総務省 Web ページにより作成。

- X：議員のなり手が不足しているといわれている町村もあることが資料 **ア** からうかがえるね。町村議会では、立候補する人が少ない背景には議員報酬が低いという指摘があるよ。議員定数を削減する町村議会も一部にあるんだね。
- Y：都道府県議会議員選挙では、それぞれの都道府県の区域を分割して複数の選挙区を設けるのに対し、市町村議会議員選挙では、その市町村の区域を一つの選挙区とするのが原則なんだね。図書館で調べた資料によると、都道府県議会議員選挙での無投票当選は、定数1や2の選挙区で多い傾向があるよ。資料 **ア** から、都道府県や町村の議会議員選挙では、市議会議員選挙と比べると無投票当選の割合が高いことがわかるけど、無投票当選が生じる理由は同じではないようだね。
- X：なるほど。この問題をめぐっては、他にも議員のなり手を増やすための環境づくりなどの議論があるよ。無投票当選は、選挙する側からすると選挙権を行使する機会が失われることになるよ。議会に対する住民の関心が低下するおそれもあるんじゃないかな。
- Y：資料 **イ** において1983年と2019年とを比べると、投票率の変化が読みとれるね。投票率の変化の背景として、**ウ** が関係しているといわれているけど、これは政治に対する無力感や不信感などから生じるそうだよ。
- X：**エ** をはじめとして選挙権を行使しやすくするための制度があるけど、政治参加を活発にするためには、無投票当選や **ウ** に伴う問題などに対処していくことも必要なんだね。

- |   |      |      |           |              |
|---|------|------|-----------|--------------|
| ① | アー a | イー b | ウー 政治的無関心 | エー パブリックコメント |
| ② | アー a | イー b | ウー 政治的無関心 | エー 期日前投票     |
| ③ | アー a | イー b | ウー 秘密投票   | エー パブリックコメント |
| ④ | アー a | イー b | ウー 秘密投票   | エー 期日前投票     |
| ⑤ | アー b | イー a | ウー 政治的無関心 | エー パブリックコメント |
| ⑥ | アー b | イー a | ウー 政治的無関心 | エー 期日前投票     |
| ⑦ | アー b | イー a | ウー 秘密投票   | エー パブリックコメント |
| ⑧ | アー b | イー a | ウー 秘密投票   | エー 期日前投票     |

## 政治・経済

問 4 下線部㉑について、生徒 X と生徒 Y は報告会前に L 市役所を訪問し、職員に質問することにした。次の会話文は生徒たちが訪問前に相談している場面である。会話文中の下線部㉒～㉕の四つの発言のうち、三つの発言は、後の資料の数値のみからは読みとることのできない内容である。会話文中の下線部㉒～㉕のうち資料の数値のみから読みとることのできる内容について発言しているものはどれか。最も適当なものを、後の①～④のうちから一つ選べ。 28

X：高齢者向けの社会保障と同時に子育ての支援も重要だと思うよ。

Y：子育てにはお金がかかるから児童手当のような現金給付が必要じゃないかな。㉒資料 1 を使って児童手当支給額の経年での変化をみると、支給額は増えていないことが示されているよ。もっと給付できないのかな。

X：でも、それよりも保育サービスの拡充の方が求められているんじゃないかな？ ㉓資料 2 には、保育所等を利用する児童数の増加傾向が示されているよ。

Y：現金給付と保育サービスの拡充のどちらも必要なのかもしれないよね。この前読んだ本には子育て支援の給付などを表す指標として家族関係社会支出があると書いてあったんだけど、㉔資料 3 では、世界の国の中には、対 GDP 比でみた家族関係社会支出の規模が日本の 2 倍以上の国があることが示されているしね。

X：でも㉕資料 4 には、社会保障の財源には借金が含まれていて、プライマリーバランスが悪化している主な要因であることが示されているよ。持続可能な仕組みなのかな。

Y：日本全体の話だと実感がわからないから、身の回りの問題から考えてみようよ。市役所の訪問時には L 市の子育て支援について質問してみない？

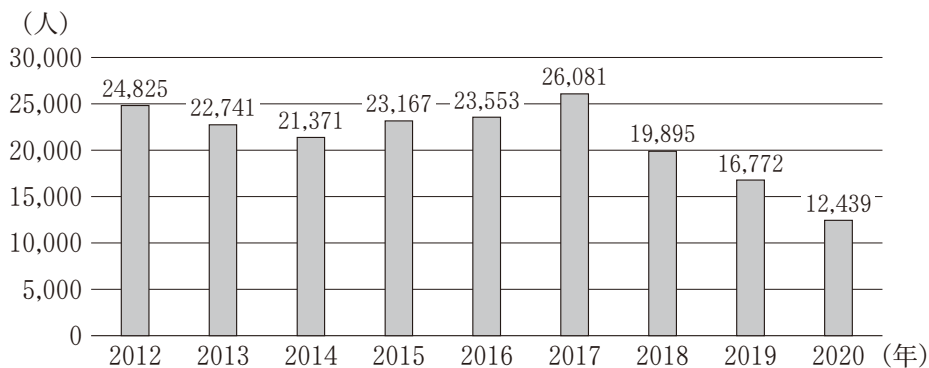
### 資料 1 児童手当支給の対象と額

支給対象児童	0 歳～ 3 歳未満	3 歳～小学校修了前		中学生
			第 3 子以降	
1 人あたり月額	15,000 円	10,000 円	15,000 円	10,000 円

(注) 児童手当の支給には所得制限がある。また、第 3 子以降とは高校卒業までの養育している児童のうち、3 番目以降のことをいう。

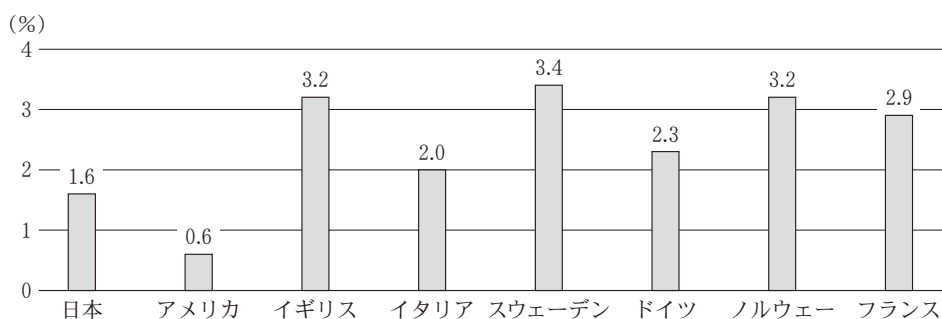
(出所) 内閣府 Web ページにより作成。

資料2 保育所等の待機児童数の推移



(出所) 厚生労働省 Web ページにより作成。

資料3 各国の家族関係社会支出の対 GDP 比の比較(2017 年)



(出所) OECD Web ページにより作成。

資料4 日本の社会保障の給付と負担の現状(2020 年度予算ベース)



(注) 「公費」は国の社会保障関係費等および地方自治体の一般財源を、「その他」は積立金の運用収入等を意味する。

(出所) 厚生労働省 Web ページにより作成。

- ① 下線部㊦      ② 下線部㊧      ③ 下線部㊨      ④ 下線部㊩

## 政治・経済

- 問 5 下線部㉔について、生徒 X と生徒 Y は報告会を主催した L 市とその近隣の地方自治体について調べた。発表内容をまとめるために、生徒たちは歳入区分のうち地方税と地方交付税と国庫支出金に着目して、次の文章と後の表を作成した。なお、文章は表を読みとって作成したものである。表中の地方自治体 ①～④のうち L 市はどれか。正しいものを、表中の ①～④のうちから一つ選べ。

29

L 市の依存財源の構成比は、表中の他の地方自治体と比べて最も低いわけではありません。ただし、「国による地方自治体の財源保障を重視する考え方」に立った場合は、依存財源が多いこと自体が問題になるとは限りません。たとえば L 市では、依存財源のうち一般財源よりも特定財源の構成比が高くなっています。この特定財源によってナショナル・ミニマムが達成されることもあるため、必要なものとも考えられます。

しかし、「地方自治を重視する考え方」に立った場合、依存財源の構成比が高くなり地方自治体の選択の自由が失われることは問題だと考えられます。L 市の場合は、自主財源の構成比は 50 パーセント以上となっています。

地方自治体	歳入区分の構成比 (%)		
	地方税	地方交付税	国庫支出金
①	42	9	19
②	52	1	18
③	75	0	7
④	22	39	6

(注) 歳入区分の項目の一部を省略しているため、構成比の合計は 100 パーセントにならない。表中に示されていない歳入のうち、自主財源に分類されるものはないものとする。

- 問 6 下線部①に関連して、次の文章は、L 市内の民間企業の取組みについて、生徒 X と生徒 Y がまとめた発表用原稿の一部である。文章中の空欄 **ア** には a か b、空欄 **イ** には c か d のいずれかが当てはまる。次の文章中の空欄 **ア** ・ **イ** に当てはまるものの組合せとして最も適当なものを、後の①～④のうちから一つ選べ。 **30**

一つ目は A 社と B 大学についての事例です。L 市に本社があるベンチャー企業の A 社は、それまで地元の大学からの人材獲得を課題としていました。そのため A 社は、市内の B 大学と提携してインターンシップ（就業体験）を提供するようになりました。このインターンシップに参加した B 大学の卒業生は、他の企業への就職も考えたものの、仕事の内容を事前に把握していた A 社にやりがいを見いだして、A 社への就職を決めたそうです。この事例は **ア** の一例です。

二つ目は事業者 C についての事例です。事業者 C は、市内の物流拠点に併設された保育施設や障がい者就労支援施設を運営しています。その物流拠点では、障がいのある人たちが働きやすい職場環境の整備が進み、障がいのない人たちと一緒に働いているそうです。この事例は **イ** の一例です。

- a スケールメリット（規模の利益）を追求する取組み
- b 雇用のミスマッチを防ぐ取組み
- c トレーサビリティを明確にする取組み
- d ノーマライゼーションの考え方を実行に移す取組み

- ① アー a    イー c
- ② アー a    イー d
- ③ アー b    イー c
- ④ アー b    イー d