

現代社会

(解答番号 ~)

第1問 大都市に住む高校生のAさんは夏休みに農村部にある祖父母の家に出かけた。次の問い(問1～8)に答えよ。(配点 26)

問1 Aさんは高速バスを利用して祖父母の家に行くことにした。バスターミナルまでAさんの姉の大学生Bさんが見送りに来て、バスが来るまでの間に次の会話をした。会話中の と に入るものの組合せとして最も適当なものを、下の①～⑥のうちから一つ選べ。

B：昔は帰省するときは急行列車でとても時間がかかったみたいだけど、今は高速道路もできて便利だね。でも建設費用はかなりかかったらしいよ。

A：それだけのお金をかけて高速道路を作って経済効果はあったのかな。

B：経済効果を計算するのは難しいけど、利用者がどれくらい便利になったのかはある程度計算できると思うよ。例えば、今回、高速バスに乗る費用はいくらだと思う？

A：バスのチケットを買ったときに5,000円払ったから5,000円だよ。

B：払ったお金はそうだね。でもバスに乗っている時間は6時間だから、例えばお店で時給1,000円で同じ時間アルバイトしたらいくらもらえるかな。

A：6,000円だね。結構もらえるな。

B：バスに乗っているとその時間はアルバイトに使えなくなるね。ということはアルバイトで稼いだ6,000円を失って、その代わりにバスに乗っていると考えることができるよね。この失った分を経済学では というそうだよ。実際に払うお金の他にこうしたことも考えないといけないんだ。

A：そうか、時間は何かに使うと他のことをするのに使えないからね。

B：今は高速道路もできたし、鉄道で行くときも途中までは新幹線でも行けるけど、昔は急行列車だと9時間かかったそうだよ。

A：今、急行列車しかなくて、運賃がもし同じ5,000円だった場合と比べると、高速道路ができて便利になったということは、それで節約できた時間でアルバイト代 円を稼げるようになったということなんだね。

- ① X 社会的費用 Y 3,000
- ② X 社会的費用 Y 6,000
- ③ X 社会的費用 Y 9,000
- ④ X 機会費用 Y 3,000
- ⑤ X 機会費用 Y 6,000
- ⑥ X 機会費用 Y 9,000

現代社会

問 2 Aさんが祖父母の家に着くと、以前来たときは玄関の様子が違っていたので、出迎えてくれたいとこのCさんに聞いたところ、祖父母の足が最近不自由になってきたのでリフォームしてもらったということだった。Aさんはそれを聞いて、以前、段差でつまずいて転んで足を捻挫したことを思い出した。

何を障害と感じるかは人や状況によって異なり、障害であることを感じさせない状態にする方向性として、次のX・Yの二つの記述に表されるものがある。下のア～ウのaとbの事例をX・Yのいずれかの方向性に区分した場合に、Xにあてはまるものの組合せとして最も適当なものを、下の①～⑧のうちから一つ選べ。

2

X あらゆる人が使いやすいようにすることを方針として設計やデザインをしていく。

Y 特定の人が感じる障害を取り除くために特別な配慮をしていく。

ア a 公共施設の階段に車椅子専用の昇降機を設置する。

b 公共施設に入口の広いエレベーターを設置する。

イ a シャンプーの容器にのみ横に突起をつけ、触ることで他の容器と区別できるようにする。

b アルコール飲料の缶容器に点字で「おさけ」と刻印する。

ウ a 大きくて見えやすい国際的に使われているピクトグラム(絵文字)を用いて施設の案内をする。

b 日本語表記のほか、英語表記を用いて施設の案内をする。

- ① アー a イー a ウー a
- ② アー a イー a ウー b
- ③ アー a イー b ウー a
- ④ アー a イー b ウー b
- ⑤ アー b イー a ウー a
- ⑥ アー b イー a ウー b
- ⑦ アー b イー b ウー a
- ⑧ アー b イー b ウー b

現代社会

問 3 祖父母の家で祖父母のほかCさんの一家が歓迎してくれた。家にはAさんの知らない一家と祖父母たちが写った写真が飾ってあり、Cさんは「前にうちにホームステイしていた人が、この間家族を連れて来たときにみんなで撮った写真だよ」と教えてくれた。家族に関する日本の最高裁判所の判断として最も適当なものを、次の①～④のうちから一つ選べ。 3

- ① 最高裁判所は、日本人の父と外国人の母との間に出生した子が出生後に認知される場合において、父母の婚姻の有無によって子の国籍の取得条件が変わる国籍法の規定は、憲法に違反しないとしている。
- ② 最高裁判所は、夫婦同姓を定める民法の規定について、それが憲法に違反するとしている。
- ③ 最高裁判所は、女性のみにも再婚禁止期間を定める民法の規定について、禁止期間のうち100日を超える部分については、憲法に違反するとしている。
- ④ 最高裁判所は、嫡出でない子(婚外子)の法定相続分を嫡出子の2分の1とする民法の規定について、それが憲法に違反しないとしている。

問 4 みんなで夕飯を食べた後にお茶を飲んで世間話をしているとき、祖父母はAさんに、この集落も昔は若い人がたくさんいたが、今は老人ばかりになってしまったという話をした。社会保障制度と日本の高齢化に関する記述として最も適当なものを、次の①～④のうちから一つ選べ。 4

- ① 日本の現行の後期高齢者医療制度では、制度の対象となる高齢者は保険料を原則として徴収されていない。
- ② 日本の現在の性別年齢別人口構成は、少子高齢化の進行に従い「つぼ型」になっている。
- ③ 一定期間に支給する年金をその期間の現役の労働者が支払う保険料で賄う方式は、積立方式と呼ばれる。
- ④ 日本は少子高齢化が急速に進行しているものの、総人口が減少する人口減少社会にはなっていない。

問 5 次の日、Aさんは自転車を貸してもらってCさんと一緒にサイクリングに出かけた。農村の奥へ進んでいくと、大規模な工事現場が見えてきた。CさんはAさんに「ここに産業廃棄物の最終処分場が建設されるんだ。計画が出てきた当初は反対運動もあったけど、産廃事業者と住民が町の仲介で何度も話し合い、事業者が、建設時や廃棄物搬入・処分時の環境影響を極力抑えたり、地元協力金を支払ったり、処分後に敷地内に桜の木を植えて眺めを良くしたりすることが決まったんだよ」と教えてくれた。

Cさんによると、反対運動が起きた当時、一部のマスコミで、様々な立場からの報道や論評がなされたそうだ。Cさんは、「最終処分場は、その周辺住民の生活環境に影響を生じさせるものなのだから、その人達が設置させないようにするというのは、制度として認められるべきだ」という内容の意見をAさんに話した。

それに対して、Aさんは、「最終処分場は社会的に必要な不可欠な施設であり、それが遠くに設置される分には何も言わないのに、自分の家の近くに計画されたときにだけ設置させないようにするというのは、制度として認められるべきではない」(主張Ⅰ)という内容の意見をCさんに伝えて二人は議論した。

次の見解ア～ウのうち、**主張Ⅰ**を有するAさんが賛同するものをすべて選んだとき、その組合せとして最も適当なものを、下の①～⑧のうちから一つ選べ。

5

ア 最終処分場の設置を許可するための法的な条件として、周辺住民の同意を得るということを付け加えるべきである。

イ 最終処分場は、周辺の環境に影響を与え得る施設なのだから、そのようなものはどこにも設置すべきではない。

ウ 最終処分場を設置しないわけにはいかないのだから、特定の地域の住民が最終処分場設置を阻めるような仕組みを用意すべきではない。

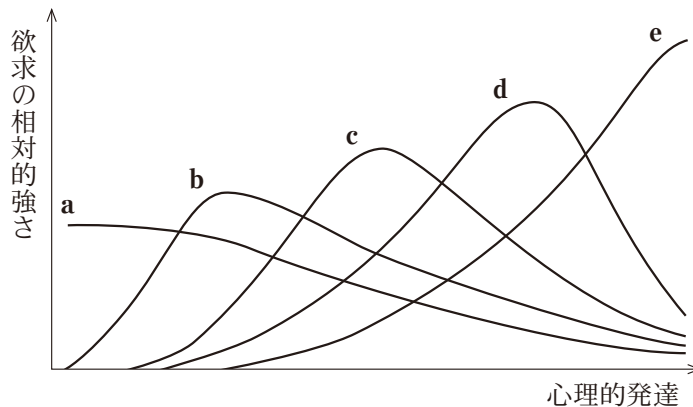
- ① アとイとウ ② アとイ ③ アとウ ④ イとウ
 ⑤ ア ⑥ イ ⑦ ウ ⑧ Aさんが賛同するものはない

現代社会

問 6 サイクリングの途中で休憩しているとき、CさんはAさんに「親にはまだ言っていないけど、心理学を学ぶために都会の大学に行きたいんだ」と打ち明けた。Aさんはまだ自分の将来の目標が分からないことに悩んでいたのも、目標が明確なCさんを少し羨ましく思った。

マズローは、人間の欲求は階層構造を成すという考えを提唱している。次の図は、この考えをその後の研究者が展開し、図式化したものである。図中のa～eは、マズローが挙げた、五つの欲求を示している。この図に関する記述として最も適当なものを、下の①～④のうちから一つ選べ。

6



- ① 人間の欲求は、aが他の欲求と比べて最も強い誕生時からeが他の欲求と比べて最も強くなる時期まで、心理的発達のすべての過程を通じて五つの階層を備えている。
- ② 自分自身のもつ能力や可能性を最大限に発揮して、自分らしく生き、成長したいという欲求は、dである。
- ③ 五つの欲求には、それぞれ他の欲求と比べて最も強い時期があり、相対的に最も強い欲求は、心理的発達に伴い低次のものから高次のものへと変化する。
- ④ 危険や恐怖を避けて、安全で安心な環境のなかで暮らしたいという欲求は、cである。

問 7 祖父母の家から帰るときに年上のいとこのDさんが自動車でバス停まで送ってくれた。農業に関係する地元の企業に勤務しているDさんは、Aさんに乗せて運転している途中、水田を横目に見ながら「農業もいろいろ大変なんだ。でも最近は新しい取組みもされているよ」と教えてくれた。日本の農業や食の安全に関する記述として最も適当なものを、次の①～④のうちから一つ選べ。

7

- ① 農業基本法の成立により、コメの価格と流通に関しては原則的に自由化された。
- ② 現在、総農家数は、1990年代半ばにおけるそれと比較すると増加している。
- ③ 食品の生産や流通の履歴を消費者が知ることのできるトレーサビリティ制度が導入されている。
- ④ 現在、日本の食料自給率(カロリーベース)は、先進国中で最も高い水準にある。

問 8 自分の家に戻ってきたAさんは、自動運転の技術開発に関するテレビのニュースを見て足が不自由な祖父母のことを思い起こし、「自動運転の技術が発展して移動しやすくなったら高齢者や障害をもつ人もしたいことができるようになるのではないだろうか」と考えた。大学に入ったら自動運転に関する知識を学びたいと考えるようになったAさんは、新学期に現代社会の授業で、『不平等の再検討』などの著書で人々の潜在能力(ケイバビリティ)を高めることの重要性を指摘した人物の思想を学んで関心をもち、自分の今後の進路にもこうした考えを役立てたいと思った。この人物の名前として最も適当なものを、次の①～④のうちから一つ選べ。

8

- ① A. セン
- ② J. ベンサム
- ③ M. フリードマン
- ④ J. M. ケインズ

現代社会

第2問 第二次世界大戦後に日本国憲法が制定されると、中学生に憲法を平易に解説する冊子として、当時の文部省は『あたらしい憲法のはなし』(1947年)を発行した。次の問い(問1～7)に答えよ。(配点 23)

問1 『あたらしい憲法のはなし』は、憲法上の権利の重要性を述べ、憲法がそれを「侵すことのできない永久に与えられた権利として記している」ことを強調する。日本における憲法上の権利とそれに関連する記述として**適当でないもの**を、次の①～④のうちから一つ選べ。

9

- ① 財産権は、公共の福祉による制限を受けない権利である。
- ② 大学における学問の自由を保障するため、大学の自治が認められている。
- ③ 憲法で保障されている生存権の理念に基づいて、必要な保護を行うとともに、自立を助長することを目的として、生活保護法が制定されている。
- ④ 表現の自由は、自由なコミュニケーションを保障するための権利であると同時に、民主主義の実現にとっても重要な権利であるとされる。

問 2 『あたらしい憲法のはなし』における、憲法上の権利についての説明では、「じぶんの思うことをいい、じぶんのすきな教えにしたがってゆける」ことなど、思想・信条の自由が挙げられている。日本の思想に関する記述として最も適当なものを、次の①～④のうちから一つ選べ。 10

- ① 石田梅岩は、儒学を経世済民の学と考え、古代中国の聖人がつくり出した道である「先王之道」を学ぶべきことを説いた。
- ② 賀茂真淵は、上下定分の理を唱え、その思想は近世の封建的な身分制を根拠づけるものとされた。
- ③ 最澄は、一切衆生悉有仏性いつさいしゆじようしつう ぶつしょうを唱え、自らの仏性を自覚して修行すれば、みな等しく成仏できるとした。
- ④ 空海は、ひたすら「南無妙法蓮華經なむみょうほうれんげきやう」という題目を唱え、法華經の教えによって導かれる仏の世界をこの世に実現させることを説いた。

問 3 日本以外の多くの国においても、思想・信条の自由が保障されている。日本以外の国における思想に関する記述として最も適当なものを、次の①～④のうちから一つ選べ。 11

- ① ホルクハイマーは、近代人は自由のもたらす孤独と不安に悩まされ、かえって権威に服従しようとする^{と述べ}、これを「自由からの逃走」と名づけた。
- ② サルトルは、自分についての選択が社会におけるあるべき人間像の選択につながる^{とし}、「アンガジュマン」という言葉を用いて、個人の自由な決断の、社会に対する責任を説いた。
- ③ マザー・テレサは、「生命への畏敬」という考えに基づき、アフリカで医療活動を行った。
- ④ ヤスパースは、死、苦しみなど自分自身の力では乗り越えることが困難な状況を「限界状況」と呼び、その状況で「ダスマン」と出会い、自己の有限性に目覚めることを説いた。

現代社会

問 4 憲法上の権利の保障は、刑事手続との関係においても重要である。下のア～ウに書かれた憲法上の権利のうち、次のような事件とその一連の手続において、保障がなされていると考えられるものをすべて選び、その組合せとして最も適当なものを、下の①～③のうちから一つ選べ。 12

20××年××月12日午前1時頃、××市××町のコンビニエンスストアに、サングラスとマスクを着用した男が入ってきた。その男は、レジカウンター内の店員Bにナイフを突きつけ、レジ内の現金10万円を奪い、バイクで逃走した。

店内の防犯カメラからは、男の顔までは特定できなかったものの、店外の防犯カメラの映像には男が乗っていたバイクのナンバープレートが映っていた。警察は、そのナンバーから所有者のAを特定し、Aを被疑者として捜査を進めた。同日午後5時頃、警察官がAの自宅を訪ねて事情を聴取したところ、Aが犯行を認めたため、警察官はAに警察署への任意での出頭を求めた。午後8時頃、逮捕令状が発付され、それに基づいて警察官はAを逮捕した。翌日、警察官が捜索・差押えのための令状に基づいてAの自宅内を捜索したところ、現金8万円とナイフを発見し、これらを差し押さえた。さらに、Aの自宅近辺の駐輪場からAが所有するバイクを発見し、令状に基づいてこれも差し押さえた。

同月14日にAが勾留されると、Aの請求に基づいて、国選弁護人が選任された。その後の取調べにおいて、Aは一転して犯行を否認し、その後は一貫して黙秘を貫くとともに、供述調書への署名を拒否した。

捜査の結果、検察官はAを強盗罪の容疑で起訴した。裁判において、Aは、自分は犯人ではないと述べたほかは一貫して黙秘を続け、弁護人もAは犯人ではないと主張し、争った。審理においては、店内外の防犯カメラの映像や、差し押さえられたナイフが証拠として提出されたほか、店員Bが証人として供述した。審理の結果、上記ナイフと店員Bの証言を基に、Aに対して、強盗罪の有罪判決が言い渡された。

- ア 現行犯の場合以外では令状なしに逮捕されない権利
- イ 資格を有する弁護人に依頼することができる権利
- ウ 自己に不利益な供述を強要されない権利

- ① アとイとウ
- ② アとイ
- ③ アとウ
- ④ イとウ
- ⑤ ア
- ⑥ イ
- ⑦ ウ
- ⑧ 保障がなされていると考えられるものはない

現代社会

問 5 2009 年から始まった裁判員制度について、最高裁判所は、2010 年に、「参政権と同様の権限を国民に付与するもの」であるなどと述べ、憲法に違反しないと判断した。その判決文からの引用を基にした次の記述ア・イについて、内容と合致する概念 A～D との組合せとして最も適当なものを、下の①～⑨のうちから一つ選べ。 13

ア 憲法は「他からの干渉や圧力を受けることなく、裁判が法に基づき公正中立に行われることを保障しようとするものであるが、裁判員制度の下においても……裁判官を裁判の基本的な担い手として……裁判の実現が図られて」いる。

イ 「裁判員制度の仕組みを考慮すれば、公平な『裁判所』における法と証拠に基づく適正な裁判が行われること……は制度的に十分保障されて……憲法が定める刑事裁判の諸原則を確保する上での支障はない」ということができる。

- A 特別裁判所の禁止
- B 裁判官の独立
- C 適正手続の保障
- D 無罪推定の原則

- | | | | | | |
|---|-----|-----|---|-----|-----|
| ① | ア－A | イ－B | ② | ア－A | イ－C |
| ③ | ア－A | イ－D | ④ | ア－B | イ－A |
| ⑤ | ア－B | イ－C | ⑥ | ア－B | イ－D |
| ⑦ | ア－C | イ－A | ⑧ | ア－C | イ－B |
| ⑨ | ア－C | イ－D | | | |

問 6 『あたらしい憲法のはなし』には、「二十歳以上の人は、だれでも」選挙権が認められるようになったと、記されている。選挙制度に関する記述として最も適当なものを、次の①～④のうちから一つ選べ。

14

- ① 日本の最高裁判所は、公職選挙法の定数配分または区割りについて、違憲状態であるとの判断を下したことがある。
- ② 秘密選挙の原則には、一定の年齢に達した者が、その財産や納税額などにかかわらず、選挙権を行使できることが含まれる。
- ③ 大選挙区制においては、小選挙区制に比べて二大政党制を促進する傾向がある。
- ④ 日本の公職選挙法上、選挙運動については、投票の依頼を目的とした戸別訪問が認められている。

現代社会

問 7 『あたらしい憲法のはなし』は、国会の役割について、立法のほか、「内閣や、その下にある、国のいろいろな役所の仕事のやりかたを、監督する」ことも行うと説明している。国会に関して、日本国憲法で定められた権限A・Bとその権限をもつ機関の説明の組合せとして最も適当なものを、下の①～⑨のうちから一つ選べ。 15

A 内閣に対して不信任を決議する権限

B 国政に関する調査を行う権限

- | | |
|-------------------|-----------------|
| ① A 衆議院のみが権限をもつ | B 衆議院のみが権限をもつ |
| ② A 衆議院のみが権限をもつ | B 参議院のみが権限をもつ |
| ③ A 衆議院のみが権限をもつ | B 衆議院も参議院も権限をもつ |
| ④ A 参議院のみが権限をもつ | B 衆議院のみが権限をもつ |
| ⑤ A 参議院のみが権限をもつ | B 参議院のみが権限をもつ |
| ⑥ A 参議院のみが権限をもつ | B 衆議院も参議院も権限をもつ |
| ⑦ A 衆議院も参議院も権限をもつ | B 衆議院のみが権限をもつ |
| ⑧ A 衆議院も参議院も権限をもつ | B 参議院のみが権限をもつ |
| ⑨ A 衆議院も参議院も権限をもつ | B 衆議院も参議院も権限をもつ |

現代社会

第3問 次の文章を読み、下の問い(問1～5)に答えよ。(配点 16)

気がつけば、窓の外は暗くなり始めていた。母の部屋でふと手に取った書類を、ウエハラさんは時が過ぎるのを忘れて読みふけていた。

「こんな報告書があったなんて……。」その書類は第二次世界大戦の終了直後から、日本中の学者や官僚等が約40回も集まって、日本の経済をどのように立て直すかを議論した末の報告書のコピーだった。ウエハラさんが感嘆したのは、一つには、この委員会が終戦の前にすでに組織されていたこと。そしてもう一つには、報告書の内容がその後の日本と世界の歩みを、的確に見通しているように思えたことである。例えば次の文章の前半部分は **A** につながっていく動きを捉えたものだろう。

世界経済の **B** 管理化

……今次大戦後の世界経済は米英の指導のもとに立体的に組織せられながら、同時に **C** 圏と **D** 圏という二つの地域に分かたれていると見るべきであらう。

……これら両圏の内部例えば^①西欧、^{どうあ}東亜等において^{さら}更に地域主義的傾向の発生が予想せられぬ訳ではないが、今次大戦前のごとき自立的ブロックに^{あら}非ずして恐らくは世界的組織の下に立つ地域主義となるであらう。

(注) 外務省調査局『改訂 日本経済再建の基本問題』(昭和21年9月)により作成。一部表現を変えている。以下の抜粋も同様。

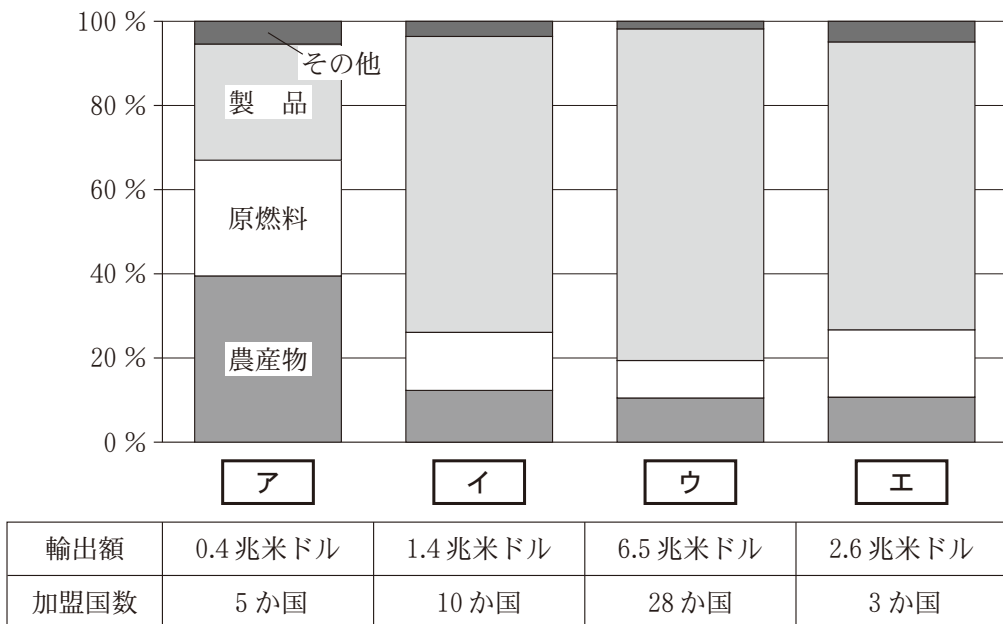
問 1 上の **A** ~ **D** に当てはまるものの組合せとして最も適切なものを、次の①~④のうちから一つ選べ。 **16**

- ① A ブレトンウッズ体制の成立や東西冷戦の激化
B 国際 C アメリカ・イギリス D ソ連
- ② A ブレトンウッズ体制の成立や東西冷戦の激化
B 脱 C アメリカ・イギリス D ソ連
- ③ A 保護主義的な地域ブロック化や南北問題の顕在化
B 国際 C 南北アメリカ D ヨーロッパ
- ④ A 保護主義的な地域ブロック化や南北問題の顕在化
B 脱 C 南北アメリカ D ヨーロッパ

現代社会

問 2 ウエハラさんは下線部②を，戦後から今日にかけて，世界各地でそれぞれ進められている様々な地域統合を思い浮かべながら読んだ。次の図中の **ア** ~ **エ** には ASEAN, EU, MERCOSUR, NAFTA のいずれかが入り，それぞれにおける輸出額とその内訳，加盟国数が示されている。そのうち，**ア** ~ **ウ** に当てはまるものの組合せとして最も適当なものを，下の①~⑨のうちから一つ選べ。 **17**

図 輸出額とその内訳，加盟国数



(注 1) 「製品」は鉄鋼，化学製品，その他の半製品，機械類及び輸送用機器，繊維，衣料，その他の製品の合計，「原燃料」は鉱石及びその他の鉱物，燃料，非鉄金属の合計，「農産物」は食料品，原料品の合計である。

(注 2) 輸出額とその内訳は 2018 年。加盟国数は 2018 年末時点。

(注 3) MERCOSUR の輸出額とその内訳，加盟国数にはボリビアを含めていない。

(注 4) NAFTA については 2018 年末時点。その後 2020 年に新しい協定に移行している。

World Trade Organization (WTO), *International Trade Statistics* (WTO Web ページ) により作成。

- | | | | | | | |
|---|---|----------|---|----------|---|-------|
| ① | ア | ASEAN | イ | MERCOSUR | ウ | EU |
| ② | ア | EU | イ | MERCOSUR | ウ | ASEAN |
| ③ | ア | MERCOSUR | イ | EU | ウ | ASEAN |
| ④ | ア | ASEAN | イ | NAFTA | ウ | EU |
| ⑤ | ア | EU | イ | NAFTA | ウ | ASEAN |
| ⑥ | ア | MERCOSUR | イ | ASEAN | ウ | EU |
| ⑦ | ア | ASEAN | イ | MERCOSUR | ウ | NAFTA |
| ⑧ | ア | EU | イ | ASEAN | ウ | NAFTA |
| ⑨ | ア | MERCOSUR | イ | ASEAN | ウ | NAFTA |

現代社会

次のくだりを読んだときには、ウエハラさんは思わずつぶやいた。「これって、まるで戦後復興期の **E** のことを言っているようだな。」

経済計画化の内容

……[日本経済の]計画化の基本的対象は鉄鋼，石炭，電力，肥料等基礎物資の需給と事業資金の供給に置かれ，^そ其の場合^{これら}之等基礎生産及び金融機関に公共的性格を与えることが要求されるであらう。

問 3 上の **E** に入る政策ないし勧告ア～ウと，それがなされた背景 a・b との組合せとして最も適当なものを，下の①～⑥のうちから一つ選べ。 **18**

- ア シャープ勧告
- イ 傾斜生産方式
- ウ 量的緩和政策

- a 基礎物資以外は，おおむね国内生産で賄うことができていた。
- b 日本国内では，原料も外貨も全般的に不足していた。

- | | |
|--------|--------|
| ① アー a | ② アー b |
| ③ イー a | ④ イー b |
| ⑤ ウー a | ⑥ ウー b |

結言

以上述べ来つた所を顧みれば、日本経済の将来は誠に苦難に満ちたものである。

……日本は先づ⑥其の国民のすべてに人間らしき生活を与える途を開拓せねばならない。……⑦自国の繁栄と生活水準の向上は、国民全体の幸福のために追求されねばならないけれども、其れが他国民の犠牲に於て達成されるのであつてはならない。

読み終えたウエハラさんは、書類を置き、天井を見つめてため息をついた。「幸福、かあ……。」

問 4 ウエハラさんは下線部⑥に関わるものの一つとして、社会保障を想起した。

社会保障に関する記述として適当でないものを、次の①～④のうちから一つ選べ。

19

- ① 現在の日本の社会保険のうち労災保険は、労使折半で費用を負担する仕組みになっている。
- ② ドイツのワイマール憲法は「すべての人に、人間であることに値する生活を保障する」という理念を打ち出した。
- ③ 第二次世界大戦後のイギリスの社会保障制度に影響を与えたとされる文書に、ベバリッジ報告がある。
- ④ 現在の日本の公的年金制度は、物価などの変動に応じて支給額が改定される仕組みになっている。

現代社会

問 5 ウエハラさんは下線部㉔を読んで、ここに示された幸福についての考え方は、時を超えて現代社会の諸課題にも適用可能であることに気づいた。そこで「自国の工業化を急速に進めたところ、自国の経済は発展したものの、その工業化のせいで近隣諸国に酸性雨被害を与える懸念が生じてきた」という課題について考えてみた。次に示す、この課題例への姿勢 A・B のうち、下線部㉔に示された考え方とより整合的なものと、下の課題例に関する記述ア～エのうち正しいものを選び、その組合せとして最も適当なものを下の①～⑧のうちから一つ選べ。

20

課題例への姿勢

- A 近隣諸国に被害を与える形での経済発展を避けるべきだという考えのもと、二酸化硫黄などの排出を抑制しつつ工業化を図ることにした。
- B 近隣諸国と相互に影響を及ぼし合うことはやむを得ないという考えのもと、他国の状況に左右されずに自国の経済発展を図ることにした。

課題例に関する記述

- ア 酸性雨被害の防止を主な目的としてバーゼル条約が締結され、日本もこの条約に加盟している。
- イ 酸性雨被害の防止を主な目的としてバーゼル条約が締結されたが、日本はこの条約に加盟していない。
- ウ 酸性雨被害への国際的な取組みの一つとして、東アジア諸国を中心に締結された長距離越境大気汚染条約がある。
- エ 酸性雨被害への国際的な取組みの一つとして、欧米諸国を中心に締結された長距離越境大気汚染条約がある。

- ① A－ア ② A－イ ③ A－ウ ④ A－エ
⑤ B－ア ⑥ B－イ ⑦ B－ウ ⑧ B－エ

現代社会

第4問 国際協力サークルに所属している大学生たち(A～E)が、世界的な課題に取り組んでいる組織やその関連団体に寄付をすることにして、候補を書き出しながら話し合っている。次の会話文を読み、下の問い(問1～7)に答えよ。(配点 23)

ア

人の心のなかに平和の^{とりで}砦を！
教育、文化、科学を通じた国際交流の促進が、平和の砦になる。そのため、この組織は、世界遺産保護の分野をリードしてきた。

イ

危機の現場へ迅速に！
この組織は、苦境にある人々の命を守るために活動を続けてきた。その貢献が評価されてノーベル平和賞を受賞している。

国連難民高等弁務官事務所

世界では2秒に1人が故郷を追われている！

この組織は、命からがら逃れる人たちの移動からキャンプでの生活まで、サポートしている。

ウ

みんなの健康を守ろう！
個々人の生活に関わる問題についても、一国のみでは対処できない場合がある。この組織は、健康のために、指針や基準を示す。

- A : **ア** の活動のために寄付するのはどうかな。世界遺産が①紛争地域で破壊されてしまった事例もあるし、保存のための努力が必要だと思う。
- B : 紛争が引き起こす深刻な問題としては、難民問題もあるよ。②ヨーロッパなどでも難民問題については大きな関心もたれているようだよ。日本でも、一定程度は③難民を受け入れてきたけれど、先進国のなかでは少ない方だよ。④国外での出来事と国内政治との関連性も踏まえて、日本としての今後の対応のあり方についても考えてみたいな。
- C : 武力紛争については、戦闘に巻き込まれて負傷した人々を守るために、危機的な状況でも現地で医療を提供し続けることも重要だよ。 **イ** の活動のために寄付したいな。

D：そもそも武力紛争に至る前に、交渉や㉔国際裁判などの平和的な方法で対立を解決できればいいと思うんだけど、難しいのかなあ。それと、武力紛争とは直接関わらなくても、世界的な取組みが求められる課題はあるよ。例えば、感染症についても国境を越えた対策が必要だよ。疾病の撲滅事業の奨励・促進を任務の一つとしている の活動のために寄付するのはどうだろう。

E：寄付先について多様な候補が出てくるのは、㉕今日の世界的な課題が多岐にわたっていることあかしの証と言えそうだね。

問 1 上の会話文中の ～ に入る語句の組合せとして最も適当なものを、次の①～⑧のうちから一つ選べ。

- | | | | | | | |
|---|---|--------|---|------------------|---|-----|
| ① | ア | UNESCO | イ | MSF | ウ | FAO |
| ② | ア | UNESCO | イ | MSF | ウ | WHO |
| ③ | ア | UNESCO | イ | アムネスティ・インターナショナル | ウ | FAO |
| ④ | ア | UNESCO | イ | アムネスティ・インターナショナル | ウ | WHO |
| ⑤ | ア | UNFPA | イ | MSF | ウ | FAO |
| ⑥ | ア | UNFPA | イ | MSF | ウ | WHO |
| ⑦ | ア | UNFPA | イ | アムネスティ・インターナショナル | ウ | FAO |
| ⑧ | ア | UNFPA | イ | アムネスティ・インターナショナル | ウ | WHO |

現代社会

問 2 下線部②に関して、様々な地域の紛争や対立に関する記述として最も適当なものを、次の①～④のうちから一つ選べ。 22

- ① イラン、イラク、トルコなどの国々に居住するクルド人によって、分離・独立や自治獲得などを目指す運動が各地で展開されている。
- ② 1990年代の激しい紛争を経て、2008年にセルビアからの独立を宣言したのは、ボスニア・ヘルツェゴビナである。
- ③ パレスチナ紛争が続くなか、国連総会の決定によって、パレスチナは国連加盟国として認められた。
- ④ 1990年代に、民族や宗教の違いなどを理由としてロシアから独立しようとする動きによって、クリミア半島で紛争が生じた。

問 3 下線部①に関して、欧州統合をめぐる出来事に関する記述として最も適当なものを、次の①～④のうちから一つ選べ。 23

- ① 欧州連合(EU)では、常任の欧州理事会議長(EU大統領)の職がマーストリヒト条約によって創設された。
- ② イギリスでは、EUからの離脱を問う国民投票によって、残留派が勝利を収めた。
- ③ 共通通貨ユーロの導入国における金融システムの安定化などを目的とした活動を行っていた機関の一つに、欧州経済共同体(EEC)があった。
- ④ 第二次世界大戦後に制度化されていった欧州統合は、欧州石炭鉄鋼共同体(ECSC)の設立から始まった。

問 4 下線部㉔に関して、会話文中のBさんが難民条約の規定を参照したところ、条約上、国家が保護することを義務づけられている「難民」に該当するには、厳格な条件が設けられていることに気付き、困窮した人々に保護が十分に与えられるのか疑問を抱いた。Bさんが難民条約に基づいて作った次の枠内のまとめ（一部抜粋）を読んで、その「難民」の定義に該当する事例として最も適当なものを、下の①～④のうちから一つ選べ。 24

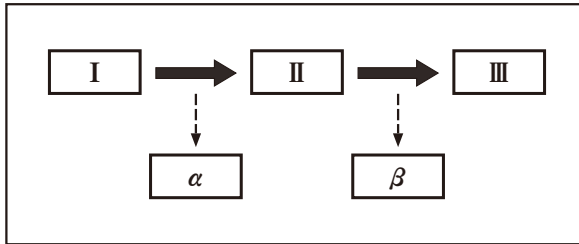
難民条約第1条における「難民」の定義(以下の三つの条件を満たすこと)

- ・ 人種、宗教、国籍、特定の社会的集団の構成員であること、または政治的意見を理由に迫害を受けるおそれがあるという恐怖を有する者
- ・ 上記の恐怖のために、国籍国の外にいる者
- ・ 国籍国の保護を受けることができない、または上記の恐怖のために国籍国の保護を受けることを望まない者

- ① G国民のXさんは、同国での経済危機の影響によって失業してしまった。そこで、極度の生活苦から家族を救うため、新たな働き口を求めてH国の大都市に移り住んだ。
- ② 本国政府の政策への批判をインターネット上で書き込んだI国民のYさんは、秘密警察に逮捕され拷問を受けた。裁判等で救済されることも期待できないため、隙を見て逃げ出し、J国内の知人の家に^{かくま}匿ってもらった。
- ③ K国民のZさんが住んでいた山間の集落で、民族間の対立から大規模虐殺が起こった。自らも生命の危険を感じ、500 kmほど離れたK国の首都に逃れた。
- ④ L国の軍事施設がM国による空爆を受け、その巻き添えになってL国民のWさんの住まいも焼失した。Wさん一家は、隣国のN国に設けられた一時避難キャンプに逃げ込んだ。

現代社会

問 5 下線部㉑に関して、次の **I** ~ **III** には、冷戦後の国際政治上の出来事 **P** ~ **R** を年代順に並べたものが、**α** ・ **β** には、日本政治上の出来事 **S** ・ **T** を年代順に並べたものが入る。**I** と **α** に入る出来事の組合せとして最も適当なものを、下の①~⑥のうちから一つ選べ。 25



I ~ **III** に入る出来事

- P** 湾岸戦争が勃発
- Q** アメリカで 9.11 同時多発テロが発生
- R** イラク戦争が勃発

α ・ **β** に入る出来事

- S** PKO 協力法が成立
- T** テロ対策特別措置法が成立

- | | |
|------------------|------------------|
| ① I — P α — S | ② I — P α — T |
| ③ I — Q α — S | ④ I — Q α — T |
| ⑤ I — R α — S | ⑥ I — R α — T |

問 6 下線部㉔に関して、次の文章の **工** と **オ** に入る記述 A～D の組合せとして最も適当なものを、下の①～⑨のうちから一つ選べ。 **26**

国際裁判は、国際紛争を処理する手続の一つであり、一般に、第三者機関が国際法を適用し、紛争の各当事者を法的に拘束する判断を下すものとして、定義されている。代表的な国際裁判機関として、国際司法裁判所がある。国際裁判は、当事者の現実の力関係によってではなく、客観的立場から公平に、法に基づいて問題を解決しようとする点に、大きな意義が認められる。しかし、紛争処理という国際裁判の機能には限界もある。例えば、 **工**。

もっとも、国際裁判が果たす機能は、個別的な紛争の処理にはとどまらない。すなわち、国際法を適用して判決が示されるなかで、法規範の内容が明確化・具体化され、それを通じて、国際社会における国際法の役割が高まるのである。 **オ**。このことは、法の発展という国際裁判の機能の表れと言える。

- A 国際司法裁判所の判決に従わないと、他国から政治的・道徳的な非難を受けるが、いかなる国家も判決に従う義務は課せられていない
- B 諸国は、国際裁判で直接取り上げられない事案においても、国際法規則の解釈にあたって、国際司法裁判所の判決を参照している
- C 国際司法裁判所が裁判を行うためには、その事件の当事国の同意が必要である
- D 国際司法裁判所の判決を履行しない国家に対しては、国連総会が強制措置をとることが、国連憲章上、想定されている

- | | | | |
|-------|-----|-------|-----|
| ① 工—A | オ—B | ② 工—A | オ—C |
| ③ 工—A | オ—D | ④ 工—B | オ—D |
| ⑤ 工—C | オ—A | ⑥ 工—C | オ—B |
| ⑦ 工—C | オ—D | ⑧ 工—D | オ—B |
| ⑨ 工—D | オ—C | | |

現代社会

問 7 下線部①に関して、次の文章中の **カ** ~ **ケ** には、SDGs(持続可能な開発目標)のうち特に関連する5つの目標のいずれかが入り、下の図はそれらをロゴによって示している。**カ** および **ケ** に入るSDGsのロゴの番号の組合せとして最も適当なものを、下の①~⑧のうちから一つ選べ。

27

WFPは、学校給食の提供を行ってきた。子どもが給食以外に十分な食事をとれないこともしばしばあり、**カ** を目指すプログラムだが、無償の食事は、両親が子どもを通学させる動機になることから、**キ** にもつながっていく。特に女子教育には、様々な効果があるとされる。まず、女子が早くに結婚させられてしまうことが減って、幅広い進路選択が可能になり、**ク** に資する。さらに、一定の教育を受けた女性が養育する子どもは栄養状態が良く、乳幼児期の死亡率が低くなるとされ、**ケ** にも影響を与えている。男女とも、修学すると高収入の職に就く可能性が高まることから、貧困解消にも寄与する。

UNICEFは、地域の女性たちによる共同菜園を奨励するプログラムを実施してきた。これは、干ばつに苦しむ地域での食料確保という意味で **カ** に関わる。また、摂取カロリーの不足分を賄うだけでなく、多品種の野菜や果物によって栄養バランスを整え、**ケ** にもつながる。収穫物を販売すれば、貧困の解消にも寄与する。菜園の運営をきっかけに、女性が地域社会においてさらに積極的な役割を果たす仕組みが定着すれば、**ク** にも資するだろう。

図 SDGsのロゴ(一部抜粋)



- ① カ—2 ケ—3 ② カ—2 ケ—15 ③ カ—3 ケ—2
④ カ—3 ケ—4 ⑤ カ—4 ケ—5 ⑥ カ—5 ケ—2
⑦ カ—15 ケ—3 ⑧ カ—15 ケ—4

第5問 現代社会の授業のまとめとして課題探究を行うこととなり、生徒Xはこれまでの学習をもとに、「持続可能なまちづくりを進めていくために、自治体が優先的に取り組むべき政策は何か」とのテーマを設定した。このことに関して、次の文章A～Cを読み、下の問い(問1～3)に答えよ。(配点 12)

A 生徒Xは、課題探究を進めるにあたり、以前旅行に行った地域の鉄道駅周辺の商店街に、空き家やシャッターが下りたままの空き店舗が多くあるのを目にして、このままだと地域社会自体が立ちゆかなくなるのではないかと感じたことを思い出した。そこで、まず全国の商店街の現状を把握するために、2017年に中小企業庁が公表した資料から、次の表1および図1、2に着目した。

これらの回答者はすべて「商店街」の代表者であり、全国の商店街から無作為抽出した5,000の商店街への調査票発送数に占める回収件数の率は37.2%であり、票数としては1,859通であった。ここでいう「商店街」とは、店舗等が主体となって街区を形成し、これらが〇〇商店街振興組合、〇〇商店会等を形成しているものを言う。

表1 商店街内における空き店舗数の、調査時点と5年前との比較および今後の予測

5年前との比較		今後の予測	
回答	比率	回答	比率
増加した	32.4%	増加する	36.2%
減少した	16.6%	減少する	10.2%
変わらない	40.2%	変わらない	28.6%
分からない	3.7%	分からない	19.7%
無回答	7.2%	無回答	5.3%

現代社会

図1 過去3年間で空き店舗が解体・撤去されたことがあるか(商店街タイプ別)

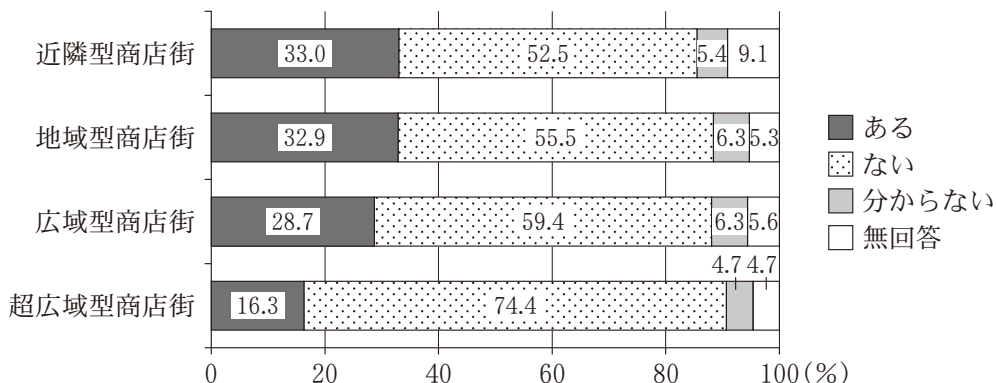
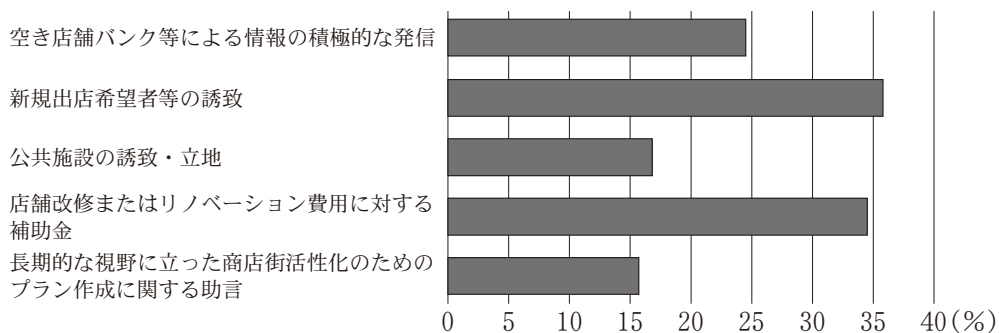


図2 行政が主導する空き店舗対策として効果的だと思う施策(複数回答)



(注1) 表1および図1に示されている数値は、四捨五入のため、各項目の合計が100%にならない場合がある。

(注2) 図1に示されている「近隣型商店街」は最寄品中心の商店街で、日用品を徒歩・自転車等により買い物を行う商店街を、「地域型商店街」は最寄品および買回り品が混在する商店街で、近隣型商店街よりもやや広い範囲から、徒歩・自転車・バス等で来街する商店街を、「広域型商店街」は百貨店・量販店等を含む大型店があり、最寄品店より買回り品店が多い商店街を、「超広域型商店街」は百貨店・量販店等を含む大型店があり、有名専門店・高級専門店を中心に構成され、遠距離からも来街する商店街を言う。

(注3) 図2は10ある選択肢から複数回答した結果について、特徴的な5つの選択肢の回答割合を示している。

(注4) 図2に示されている「空き店舗バンク」とは、空き店舗の売買、賃貸等を希望するその所有者等から申込みを受けた情報を、空き店舗において商業等を行うことを目的に利用を希望する者に対し、紹介を行う仕組みのことを言う。

表1および図1、2はすべて中小企業庁「商店街空き店舗実態調査報告書」(平成29年3月)(中小企業庁Webページ)により作成。

問 1 表 1 および図 1, 2 の内容を説明した記述として最も適当なものを, 次の

①~④のうちから一つ選べ。 28

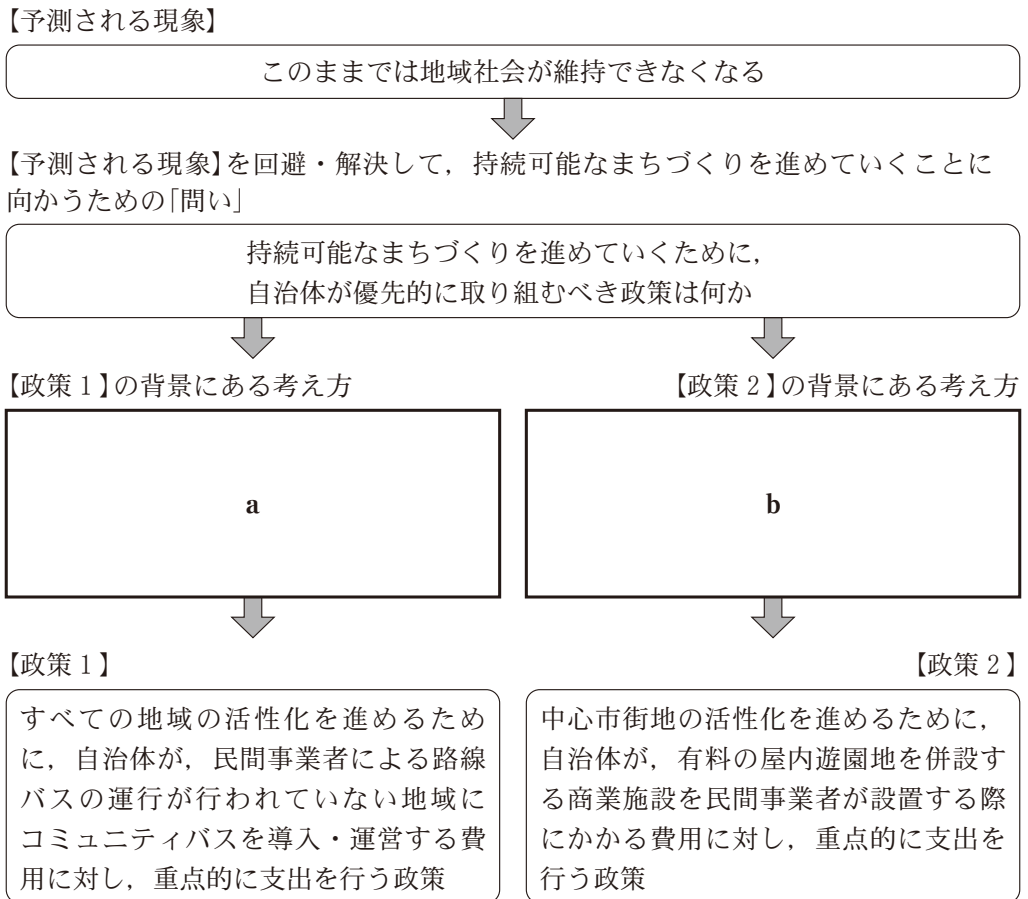
- ① 表 1 によると, 商店街内における空き店舗数について, 調査時点と「5 年前との比較」で「増加した」と答えた割合より, 「今後の予測」で「増加する」と答えた割合の方が低い。
- ② 図 1 によると, 日用品を徒歩・自転車等により買い物を行う商店街(近隣型商店街)よりも, 百貨店・量販店等を含む大型店があり, 遠距離からも来街する商店街(超広域型商店街)の方が, 過去 3 年間で空き店舗が解体・撤去されたことが「ある」と答えた割合が高くなっている。
- ③ 図 2 によると, 行政が主導する「空き店舗バンク等による情報の積極的な発信」, 「新規出店希望者等の誘致」が効果的だと思う割合はいずれも 3 割を超えている。
- ④ 図 2 によると, 行政が主導する「公共施設の誘致・立地」, 「長期的な視野に立った商店街活性化のためのプラン作成に関する助言」が効果的だと思う割合はいずれも 2 割に満たない。

現代社会

B 生徒Xは、資料を読み解いていくなかで、私有財産である空き店舗は、自治体が勝手に処分することはできないものであるが、良好な景観の維持やまちづくりといった視点から考えると、自治体が主導したり、商店街と協働したりして対策を採ることが必要なのではないかと考えるようになった。

そこで、自治体による政策の事例を探してきた上で、先生の指導を経て次の図3のようにまとめた。【政策1】と【政策2】は、持続可能なまちづくりを進めたい、という点では一致しているが、その背景にある、財源の使い方や自治体の役割に関する考え方が異なっていると考えられる。図3中の **a** には【政策1】の背景にある考え方が、また、 **b** には【政策2】の背景にある考え方が入る。

図3 生徒Xによる自治体の政策に関するまとめ



問 2 次のア～エは、図 3 中の【政策 1】と【政策 2】それぞれの背景にある考え方

a と **b** のどちらに近い内容か。その組合せとして最も適当なものを、下の①～④のうちから一つ選べ。 **29**

ア 自治体は採算性を考えた上で、最も大きな経済効果が期待される対策に集中して財源を配分することが望ましい。

イ 自治体は全住民の利益を考えた上で、移動において不利な条件にある住民の利益享受の機会が失われないように財源を配分することが望ましい。

ウ 自治体の役割は、居住・活動地域にかかわらず、住民が新たなまちづくりの担い手になることができるように、財政面から手厚く措置することにこそある。

エ 自治体の役割は、商店街の利用者や新たにまちづくりの担い手となろうとしている人々が集まりやすい地域に対して、財政面から手厚く措置することにこそある。

- ① a — アとウ b — イとエ
- ② a — アとエ b — イとウ
- ③ a — イとウ b — アとエ
- ④ a — イとエ b — アとウ

現代社会

C 生徒Xは、これまでに調べまとめた課題探究の内容を、クラスで中間発表した。その際、クラスメイトから「そもそも、自分たちのまちの空き店舗対策やまちづくりについての考えを示し、新たに取組みを進めようとしている人が少ないのではないか」との意見が挙がり、自治体任せではなく、次に示した**観点**からの取組みも大切であることに気付いた。そこで、この**観点**を踏まえ、課題探究の最終レポートの作成に向けて、さらに深く探究を進めていくこととした。

観点

地域住民が、自治体が主導する政策に頼るのではなく、自ら発案し、自己の能力をいかしてまちづくりの担い手となる、という観点

問 3 上の**観点**に直接基づく取組みと考えられるものを次のア～ウからすべて選び、その組合せとして最も適当なものを、下の①～⑧のうちから一つ選べ。

30

ア 地域住民が、中心市街地の活性化に関心や志がある人を地域内から募り、空き店舗などの民間資本を有効活用する地域再生のプロジェクトを中心としたソーシャル・ビジネスを起業する。

イ 商店街内に居住する民間事業者が、廃業した酒蔵の所有者と賃貸借契約を結んで自己資金で改築し、地元産食品を提供するレストランを営み、地域住民の交流の場として提供する。

ウ 土産物店の経営者が、雇用の創出や地域の産業振興につながる観光業を促進するための補助金支出事業を立案した自治体の取組みをそのまま受け入れ、補助金を申し込む。

- ① アとイとウ ② アとイ ③ アとウ ④ イとウ
⑤ ア ⑥ イ ⑦ ウ
⑧ 上の**観点**に直接基づく取組みと考えられるものはない